

## Phase X/2022/Selection Posts and Selection Posts/Ladakh/2022

Roll Number	
Candidate Name	
Venue Name	
Exam Date	01/08/2022
Exam Time	5:15 PM - 6:15 PM
Subject	Selection Post Phase X Graduate Level

Section : General Intelligence

www.examphase.com

Q.1 एक निश्चित कूट भाषा में, 'BLISS' को '56' लिखा जाता है और 'FORD' को '39' लिखा जाता है। उस भाषा में 'TENT' को कैसे लिखा जाएगा?

- Ans
- 1. 42
  - 2. 46
  - 3. 58
  - 4. 55

Question ID : 26433078031  
Status : Answered  
Chosen Option : 4

Q.2 एक ही पासे की दो अलग-अलग स्थितियों को दिखाया गया है, जिसके फलकों पर H, I, J, K, L और M अक्षर लिखे गए हैं।



H वाले फलक के विपरीत फलक पर कौन सा अक्षर है?

- Ans
- 1. K
  - 2. I
  - 3. J
  - 4. M

Question ID : 26433078336  
Status : Answered  
Chosen Option : 2

Q.3 कौन-सा अक्षर-समूह प्रश्न-चिह्न (?) को प्रतिस्थापित करेगा और दी गई श्रृंखला को पूरा करेगा?  
EFGH, FEHG, ?, HCJE, IBKD

- Ans
- 1. GDHE
  - 2. GDHF
  - 3. GDIF
  - 4. GDIE

Question ID : 26433078206  
Status : Answered  
Chosen Option : 3

Q.4 तीन कथनों के बाद तीन निष्कर्ष I, II और III दिए गए हैं। आपको इन कथनों को सत्य मानना है, भले ही वे सामान्य रूप से ज्ञात तथ्यों से भिन्न प्रतीत होते हों। निर्धारित करें कि दिए गए निष्कर्षों में से कौन-सा/से निष्कर्ष दिए गए कथनों का तार्किक रूप से अनुसरण करता है/करते हैं।

कथन:

कोई आम, केला नहीं है।  
कोई केला, अमरूद नहीं है।  
कुछ अमरूद, संतरे हैं।

निष्कर्ष:

(I) कुछ आम, संतरे हैं।  
(II) कुछ अमरूद, आम हैं।  
(III) कोई संतरा, केला नहीं है।

- Ans
- 1. केवल निष्कर्ष II अनुसरण करता है।
  - 2. केवल निष्कर्ष I अनुसरण करता है।
  - 3. निष्कर्ष I, II और III अनुसरण करते हैं।
  - 4. कोई भी निष्कर्ष अनुसरण नहीं करता है।

Question ID : 26433078155

Status : Answered

Chosen Option : 4

Q.5 उस शब्द-युग्म का चयन कीजिए जिसके शब्दों के मध्य वही संबंध है जो नीचे दिए गए शब्द-युग्म के शब्दों के मध्य है। (शब्दों को अर्थपूर्ण अंग्रेजी शब्दों के रूप में माना जाना चाहिए और शब्द में अक्षरों की संख्या / व्यंजनों की संख्या / स्वरों की संख्या के आधार पर एक-दूसरे से संबंधित नहीं किया जाना चाहिए)

वास्तुकार : डिजाइन

- Ans
- 1. बढ़ई : लकड़ी
  - 2. दर्जी : सूट
  - 3. किसान : ट्रैक्टर
  - 4. पत्रकार : कविता

Question ID : 26433077573

Status : Answered

Chosen Option : 3

Q.6 नीचे तीन कथन और उनके बाद तीन निष्कर्ष I, II और III दिए गए हैं। कथनों को सत्य मानते हुए, भले ही वे सामान्य रूप से ज्ञात तथ्यों से भिन्न प्रतीत होते हों, यह निर्णय लीजिए कि कौन सा/से निष्कर्ष कथनों का तार्किक रूप से अनुसरण करता है / करते हैं।

कथन:

कुछ C, P हैं।  
कोई C, T नहीं है।  
सभी P, S हैं।

निष्कर्ष:

I. सभी S के C होने की संभावना है।  
II. कम से कम कुछ T, C नहीं हैं।  
III. कुछ P, T नहीं हैं।

- Ans
- 1. निष्कर्ष I, II और III सभी अनुसरण करते हैं
  - 2. केवल निष्कर्ष I अनुसरण करता है
  - 3. केवल निष्कर्ष II और III अनुसरण करते हैं
  - 4. केवल निष्कर्ष I और III अनुसरण करते हैं

Question ID : 26433078060

Status : Answered

Chosen Option : 4

Q.7 श्री रवि का मित्र उनसे मिलने आता है और वे घर पर अपनी पुत्री के भाई-बहन की माता के रूप में एक महिला का परिचय देते हैं। यह महिला, रवि की \_\_\_\_\_ है।

- Ans
- 1. पुत्री
  - 2. माता
  - 3. पत्नी
  - 4. बहन

Question ID : 26433078161  
Status : Answered  
Chosen Option : 3

Q.8 दिए गए समीकरण को सही बनाने के लिए किन दो संख्याओं को (न कि संख्याओं के अंकों को) आपस में और किन दो चिह्नों को आपस में बदला जाना चाहिए?  
 $27 \div 9 - 63 \times 3 + 10 = 78$

- Ans
- 1. 3 और 9; + और +
  - 2. 63 और 10; + और -
  - 3. 9 और 10;  $\times$  और +
  - 4. 27 और 63; + और -

Question ID : 26433067608  
Status : Answered  
Chosen Option : 4

Q.9 उस विकल्प का चयन कीजिए जो तीसरे शब्द से उसी प्रकार संबंधित है जिस प्रकार दूसरा शब्द पहले शब्द से संबंधित है। (शब्दों को अर्थपूर्ण अंग्रेजी शब्दों के रूप में माना जाना चाहिए और शब्द में अक्षरों की संख्या/व्यंजनों/स्वरों की संख्या के आधार पर शब्द एक-दूसरे से संबंधित नहीं होने चाहिए।)  
दूध : दही :: अंगूर : ? \_\_\_\_\_

- Ans
- 1. हरा
  - 2. खट्टा
  - 3. वाइन
  - 4. फल

Question ID : 26433067562  
Status : Answered  
Chosen Option : 3

Q.10 दी गई श्रेणी में प्रश्नवाचक चिह्न (?) के स्थान पर विकल्पों में से कौन सी संख्या आएगी?

6, 8, 11, 16, ?, 34, 47, 64

- Ans
- 1. 27
  - 2. 29
  - 3. 21
  - 4. 23

Question ID : 26433078689  
Status : Answered  
Chosen Option : 4

Q.11 जब दर्पण को प्रश्न आकृति के दायीं ओर रखा जाता है, तो निम्नलिखित विकल्पों में से सही दर्पण प्रतिबिम्ब का चयन करें।



Ans

✗ 1.



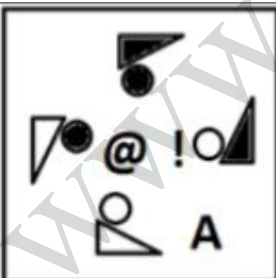
✗ 2.



✓ 3.



✗ 4.



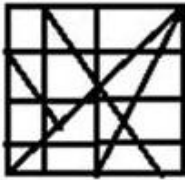
Question ID : 26433078507  
Status : Answered  
Chosen Option : 3

Q.12 उस विकल्प का चयन कीजिए जिसमें दी गई आकृति अंतर्निहित है। (घुमाने की अनुमति नहीं है।)

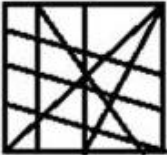


Ans

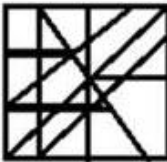
✗ 1.



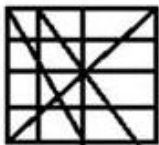
✗ 2.



✗ 3.



✓ 4.



Question ID : 26433078469

Status : Answered

Chosen Option : 4

Q.13 उस विकल्प का चयन करें जो पांचवें अक्षर-समूह से उसी प्रकार संबंधित है जैसे दूसरा अक्षर-समूह पहले अक्षर-समूह से संबंधित है और चौथा अक्षर-समूह तीसरे अक्षर-समूह से संबंधित है।

SYSTEM : RXRSDL :: COHORT : BNGNQS :: SCHEDULE : ?

Ans ✗ 1. RBCTKDGD

✓ 2. RBGDCTKD

✗ 3. RBCGDTDK

✗ 4. RDBCTKDGD

Question ID : 26433078002

Status : Answered

Chosen Option : 2

Q.14 एक निश्चित कूट भाषा में, 'players like Fitness' को 'ab ef op' के रूप में लिखा जाता है, 'fitness is good' को 'op xy uv' के रूप में लिखा जाता है और 'players are good' को 'uv ef qr' के रूप में लिखा जाता है। उसी भाषा में 'like' शब्द के लिए क्या कूट है?

- Ans
- 1. xy
  - 2. ab
  - 3. op
  - 4. ef

Question ID : 26433077806

Status : Answered

Chosen Option : 2

Q.15 उस समुच्चय का चयन कीजिए जिसमें संख्याएँ एक-दूसरे से उसी प्रकार संबंधित हैं जिस प्रकार निम्नलिखित समुच्चय की संख्याएँ आपस में संबंधित हैं।  
(नोट: संख्याओं को उसके घटक अंकों में विभाजित किए बिना, पूर्ण संख्याओं पर गणितीय संक्रियाएँ की जानी चाहिए। उदाहरण के लिए 13 - संख्या 13 पर गणितीय संक्रियाएँ जैसे कि जोड़ना / घटाना / गुणा करना आदि को 13 से किया जा सकता है। 13 को 1 और 3 में तोड़ना और फिर 1 और 3 पर गणितीय संक्रियाएँ करने की अनुमति नहीं है)  
(9, 4, 85)  
(6, 5, 41)

- Ans
- 1. (2,15,39)
  - 2. (8,2,28)
  - 3. (1,4,5)
  - 4. (3,9,19)

Question ID : 26433078772

Status : Answered

Chosen Option : 3

Q.16 उस विकल्प का चयन करें जो तीसरे शब्द से उसी प्रकार संबंधित है जिस प्रकार दूसरा शब्द पहले शब्द से संबंधित है। (शब्दों को अर्थपूर्ण अंग्रेजी शब्दों के रूप में माना जाना चाहिए और शब्द में अक्षरों की संख्या/व्यंजनों/स्वरों की संख्या के आधार पर एक-दूसरे से संबंधित नहीं होना चाहिए)  
स्याही : कलम :: रंग : ?

- Ans
- 1. ब्रश
  - 2. कागज
  - 3. स्केच
  - 4. कला

Question ID : 26433077670

Status : Answered

Chosen Option : 3

Q.17 एक कूट भाषा में 'CRANE' को 'GPCTE' लिखा जाता है और 'WASP' को 'RUCY' लिखा जाता है। उसी भाषा में 'JUICE' को कैसे लिखा जाएगा?

- Ans
- 1. GEKWM
  - 2. GEJWM
  - 3. GEKWL
  - 4. GEJWL

Question ID : 26433068946

Status : Answered

Chosen Option : 3

Q.18 एक निश्चित कूट भाषा में, 'HOCKEY' को 'BNGXDJ' लिखा जाता है और 'BOXING' को 'WNAFMH' लिखा जाता है। उसी भाषा में 'SPORTS' को कैसे लिखा जाएगा?

- Ans
- 1. NOSRRQ
  - 2. NOSSRQ
  - 3. NORRSQ
  - 4. NORSSQ

Question ID : 26433078167  
Status : Answered  
Chosen Option : 3

Q.19 एक निश्चित कूट भाषा में, 'SHOUT' को '10110' के रूप में लिखा जाता है और 'COLOUR' को '110110' के रूप में लिखा जाता है। उसी भाषा में 'OCEAN' को कैसे लिखा जाएगा?

- Ans
- 1. 11001
  - 2. 10101
  - 3. 11110
  - 4. 11010

Question ID : 26433067568  
Status : Answered  
Chosen Option : 3

Q.20 एक निश्चित कूट भाषा में, 'CAMERA' को '242' लिखा जाता है, 'BROKEN' को '194' लिखा जाता है, उसी कूट भाषा में 'CENTRE' को कैसे लिखा जाएगा?

- Ans
- 1. 200
  - 2. 198
  - 3. 190
  - 4. 194

Question ID : 26433078119  
Status : Answered  
Chosen Option : 4

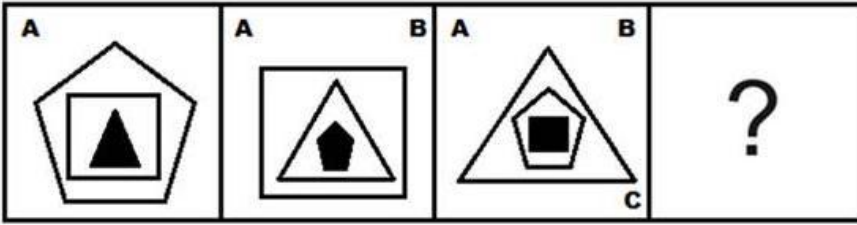
Q.21 उस विकल्प का चयन कीजिए जो उन अक्षरों को निरूपित करता है जिन्हें नीचे दिए गए रिक्त स्थानों में बाएं से दाएं क्रमिक रूप से रखने पर अक्षर श्रृंखला पूरी हो जाएगी।

A \_ \_ R T A \_ E \_ T \_ G E R \_ A C \_ \_ T

- Ans
- 1. CEDSATER
  - 2. CECRATER
  - 3. CECRBTER
  - 4. CECSATER


Question ID : 26433067537  
Status : Answered  
Chosen Option : 2

Q.22 उस आकृति का चयन कीजिए जो निम्न आकृति श्रृंखला में अगले स्थान पर आएगी।



Ans


✗ 1.



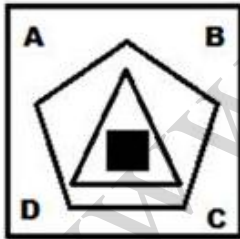
✓ 2.



✗ 3.



✗ 4.



Question ID : 26433078474

Status : Answered

Chosen Option : 2



Q.23 उस विकल्प का चयन कीजिए जो दिए गए शब्दों को उसी क्रम में दर्शाता है जिस क्रम में वे अंग्रेजी शब्दकोश में आते हैं। (नोट : दिए गए शब्द सार्थक शब्द हो भी सकते हैं और नहीं भी हो सकते हैं)

1. Judgement
2. Journal
3. Jurisdiction
4. Juice
5. Journey

Ans  1. 2, 4, 5, 1, 3  
 2. 2, 5, 1, 4, 3  
 3. 2, 3, 5, 1, 4  
 4. 2, 1, 5, 4, 3

Question ID : 26433078076  
Status : Answered  
Chosen Option : 2

Q.24 A # B' का अर्थ है 'A, B का भाई है'।  
'A @ B' का अर्थ है 'A, B की पुत्री है'।  
'A & B' का अर्थ है 'A, B का पति है'।  
'A % B' का अर्थ है 'A, B की पत्नी है'।  
यदि V & R @ F % H # T @ M है, तो R, M से किस प्रकार संबंधित है?

Ans  1. सास  
 2. नवासी  
 3. पोती  
 4. पुत्री

Question ID : 26433078240  
Status : Answered  
Chosen Option : 3

Q.25 उस विकल्प का चयन करें जो दिए गए शब्दों के उस सही क्रम को दर्शाता है, जिस क्रम में वे अंग्रेजी शब्दकोश में दिखाई देते हैं।

1. Defeat
2. Decline
3. Delegate
4. Deliberately
5. Dedicate
6. Demanding

Ans  1. 2, 5, 1, 3, 4, 6  
 2. 2, 5, 6, 3, 4, 1  
 3. 2, 5, 3, 1, 4, 6  
 4. 2, 5, 1, 3, 6, 4

Question ID : 26433078144  
Status : Answered  
Chosen Option : 1

Section : English Language

**Q.1** Select the option that can be used as a one-word substitute for the given group of words.

To the utmost or most absolute extent or degree

- Ans
- 1. Merely
  - 2. Barely
  - 3. Quite
  - 4. Primarily

Question ID : 26433060857  
Status : Answered  
Chosen Option : 1

**Q.2** Select the most appropriate ANTONYM of the given word.

Delusion

- Ans
- 1. Phantasm
  - 2. Illusion
  - 3. Reality
  - 4. Fallacy

Question ID : 26433060447  
Status : Answered  
Chosen Option : 2

**Q.3** Parts of the given sentence have been given as options. One of them contains a spelling error. Select the option that rectifies the error.

Governments must translate their sustainable development goals into national legaslation.

- Ans
- 1. sustainable
  - 2. translate
  - 3. legislation
  - 4. development

Question ID : 26433059575  
Status : Answered  
Chosen Option : 3

**Q.4** Select the option that expresses the given sentence in passive voice.

Are fossil fuels not impacting human health?

- Ans
- 1. Is human health not impacted by fossil fuel?
  - 2. Is human health not being impacted by fossil fuel?
  - 3. Was human health not being impacted by fossil fuel?
  - 4. Did human health not being impacted by fossil fuel?

Question ID : 26433058625  
Status : Answered  
Chosen Option : 3

**Q.5** Select the most appropriate option to replace the underlined word in the given sentence.

This statue of Lord Buddha is carved in jade.

- Ans
- 1. as of
  - 2. besides
  - 3. by of
  - 4. out of

Question ID : 26433058999  
Status : Answered  
Chosen Option : 3

**Q.6** Select the option that expresses the given sentence in direct speech.

My father asked how I had done that.

- Ans
- 1. My father asked "How I had done that".
  - 2. My father asked, "How I had do that?"
  - 3. My father asked, "How did you do this?"
  - 4. My father asked "How I did this".

Question ID : 26433075458  
Status : Answered  
Chosen Option : 3

**Q.7** Select the most appropriate option that can substitute the underlined segment in the given sentence.

Reading has the capacity to make a man wise, but reading of only textbooks is like living in room of our same height.

- Ans
- 1. Reading should make a man wise
  - 2. Reading makes a man wise
  - 3. Reading make a man wise
  - 4. Reading shall make a man wise

Question ID : 26433058538  
Status : Answered  
Chosen Option : 2

**Q.8** Select the option that can be used as a one-word substitute for the given group of words.

Easy to understand

- Ans
- 1. Ludicrous
  - 2. Lacklustre
  - 3. Lucid
  - 4. Ambiguous

Question ID : 26433060736  
Status : Answered  
Chosen Option : 1

Q.9 Select the most appropriate synonym of the given word.

**BLINK**

- Ans  1. blaze  
 2. flicker  
 3. shine  
 4. attend

Question ID : 26433076782  
Status : Answered  
Chosen Option : 2

Q.10 Identify the INCORRECTLY spelt word in the given sentence.

She holored at her manager and told her that she does not need her service.

- Ans  1. holored  
 2. need  
 3. manager  
 4. service

Question ID : 26433061581  
Status : Answered  
Chosen Option : 4

Q.11 Select the most appropriate option that can substitute the underlined segment in the given sentence.

A lot of people are seen gathering, discussing and negotiating in front of our stall in the town.

- Ans  1. jostling  
 2. bargaining  
 3. dealing  
 4. collecting

Question ID : 26433058581  
Status : Answered  
Chosen Option : 2

Q.12 Select the most appropriate meaning of the given idiom.

**A blessing in disguise**

- Ans  1. A good thing that seemed bad at first  
 2. Get an advantage  
 3. Get a surprisingly good result  
 4. A bad thing that becomes good later

Question ID : 26433058590  
Status : Answered  
Chosen Option : 3

**Q.13** Select the option that expresses the given sentence in indirect speech.

**“Stop! Don’t fight.” said the mother to her children.**

- Ans**
- 1. The mother exclaimed to her children angrily to stop and don't fight.
  - 2. The mother told her children to stop and not fight.
  - 3. The mother exclaimed angrily to her children to stop and not fight.
  - 4. The mother exclaimed to her children to pause and not engage in a fight.

Question ID : **26433059002**  
Status : **Answered**  
Chosen Option : **1**

**Q.14** Select the option that can be used as a one-word substitute for the given group of words.

**The supervising person during an examination.**

- Ans**
- 1. Supervisor
  - 2. Invigilator
  - 3. Examinee
  - 4. Examiner

Question ID : **26433060825**  
Status : **Answered**  
Chosen Option : **2**

**Q.15** Change the voice of the given sentence.

**You can take one casual leave per month.**

- Ans**
- 1. One casual leave per month could be taken.
  - 2. One casual leave per month can be taken.
  - 3. One casual leave per month will be taken.
  - 4. One casual leave per month is to be taken.

Question ID : **26433059463**  
Status : **Answered**  
Chosen Option : **2**

www.examphase.com

**Comprehension:**

In the following passage, some words have been deleted. Read the passage carefully and select the most appropriate option to fill in each blank.

Darrah Wildlife Sanctuary is another name for Mukundra Hills National Park. Rajasthan is (1)\_\_\_\_\_ to the Darrah Wildlife Sanctuary. The sanctuary is situated on the southern outskirts of the town of Kota. Darrah was designated a (Protected area) wildlife sanctuary in 1955, and visitors must now (2)\_\_\_\_\_ consent from a local forest (3)\_\_\_\_\_ before visiting the park. The sanctuary's overall size is around 250 sq. km. Previously, the Darrah sanctuary served as the Maharaja of Kota's royal (4)\_\_\_\_\_ grounds. This location is around 50 kilometres from Kota. It is located on the Chambal River's eastern bank and is drained by its (5)\_\_\_\_\_.

**SubQuestion No : 16**

**Q.16** Select the most appropriate option to fill in blank no. 1.

- Ans**  1. home  
 2. destination  
 3. far  
 4. neighbour

Question ID : 26433058745  
Status : Answered  
Chosen Option : 1

**Comprehension:**

In the following passage, some words have been deleted. Read the passage carefully and select the most appropriate option to fill in each blank.

Darrah Wildlife Sanctuary is another name for Mukundra Hills National Park. Rajasthan is (1)\_\_\_\_\_ to the Darrah Wildlife Sanctuary. The sanctuary is situated on the southern outskirts of the town of Kota. Darrah was designated a (Protected area) wildlife sanctuary in 1955, and visitors must now (2)\_\_\_\_\_ consent from a local forest (3)\_\_\_\_\_ before visiting the park. The sanctuary's overall size is around 250 sq. km. Previously, the Darrah sanctuary served as the Maharaja of Kota's royal (4)\_\_\_\_\_ grounds. This location is around 50 kilometres from Kota. It is located on the Chambal River's eastern bank and is drained by its (5)\_\_\_\_\_.

**SubQuestion No : 17**

**Q.17** Select the most appropriate option to fill in blank no. 2.

- Ans**  1. relinquish  
 2. donate  
 3. obtain  
 4. restrain

Question ID : 26433058746  
Status : Answered  
Chosen Option : 1

**Comprehension:**

In the following passage, some words have been deleted. Read the passage carefully and select the most appropriate option to fill in each blank.

Darrah Wildlife Sanctuary is another name for Mukundra Hills National Park. Rajasthan is (1)\_\_\_\_\_ to the Darrah Wildlife Sanctuary. The sanctuary is situated on the southern outskirts of the town of Kota. Darrah was designated a (Protected area) wildlife sanctuary in 1955, and visitors must now (2)\_\_\_\_\_ consent from a local forest (3)\_\_\_\_\_ before visiting the park. The sanctuary's overall size is around 250 sq. km. Previously, the Darrah sanctuary served as the Maharaja of Kota's royal (4)\_\_\_\_\_ grounds. This location is around 50 kilometres from Kota. It is located on the Chambal River's eastern bank and is drained by its (5)\_\_\_\_\_.

**SubQuestion No : 18****Q.18 Select the most appropriate option to fill in blank no. 3.**

- Ans  1. invader  
 2. hunter  
 3. ranger  
 4. deployer

Question ID : 26433058747  
Status : Answered  
Chosen Option : 1

**Comprehension:**

In the following passage, some words have been deleted. Read the passage carefully and select the most appropriate option to fill in each blank.

Darrah Wildlife Sanctuary is another name for Mukundra Hills National Park. Rajasthan is (1)\_\_\_\_\_ to the Darrah Wildlife Sanctuary. The sanctuary is situated on the southern outskirts of the town of Kota. Darrah was designated a (Protected area) wildlife sanctuary in 1955, and visitors must now (2)\_\_\_\_\_ consent from a local forest (3)\_\_\_\_\_ before visiting the park. The sanctuary's overall size is around 250 sq. km. Previously, the Darrah sanctuary served as the Maharaja of Kota's royal (4)\_\_\_\_\_ grounds. This location is around 50 kilometres from Kota. It is located on the Chambal River's eastern bank and is drained by its (5)\_\_\_\_\_.

**SubQuestion No : 19****Q.19 Select the most appropriate option to fill in blank no. 4.**

- Ans  1. dancing  
 2. hunting  
 3. evading  
 4. playing

Question ID : 26433058748  
Status : Answered  
Chosen Option : 2

**Comprehension:**

In the following passage, some words have been deleted. Read the passage carefully and select the most appropriate option to fill in each blank.

Darrah Wildlife Sanctuary is another name for Mukundra Hills National Park. Rajasthan is (1)\_\_\_\_\_ to the Darrah Wildlife Sanctuary. The sanctuary is situated on the southern outskirts of the town of Kota. Darrah was designated a (Protected area) wildlife sanctuary in 1955, and visitors must now (2)\_\_\_\_\_ consent from a local forest (3)\_\_\_\_\_ before visiting the park. The sanctuary's overall size is around 250 sq. km. Previously, the Darrah sanctuary served as the Maharaja of Kota's royal (4)\_\_\_\_\_ grounds. This location is around 50 kilometres from Kota. It is located on the Chambal River's eastern bank and is drained by its (5)\_\_\_\_\_.

**SubQuestion No : 20**

**Q.20** Select the most appropriate option to fill in blank no. 5.

- Ans  1. outflow  
 2. tributaries  
 3. distributaries  
 4. effluent

Question ID : 26433058749  
Status : Answered  
Chosen Option : 3

**Comprehension:**

Read the given passage and answer the questions that follow.

From language to cultures - there are annals about India's diversity writ in bold. At the heart of everything we hold close is our love for food; the aroma from warm hearths wafts in the air, a heady mix of history and meals. So heady, that we often forget that food has a large carbon footprint, and the menace of ever-growing fast-food businesses that contribute the lion's share to this problem. However, India's rich traditional and local edible biodiversity, with its focus on home cooked food, presents a ray of hope. Indian members of Relais & Châteaux, in partnership with Slow Food International, hope to bring back our forefathers' wisdom when it comes to eating, through the Slow Food movement, which started in the 1980s and aims to bring to the fore the connection of plate with people and the planet. Calling for the protection and promotion of traditional techniques associated with regional food cultures is Jaisal Singh, owner of SUJAN group of hotels.

**SubQuestion No : 21**

**Q.21** Which of the following sums up the central idea of the passage?

- Ans  1. Fast food businesses are at the root of large carbon foot-print. The possible solution lies only in eating home cooked food and stop eating out.  
 2. Annals about India's diversity have been writ on varied subjects from languages to cultures. However, the love for food and the ever-growing fast-food businesses has been the central subject of the interest.  
 3. Jaisal Singh, the owner of SUJAN group of hotels has also been an important member of this traditional techniques associated with regional food cultures.  
 4. Given the large carbon foot-print and menace of fast-food businesses an attempt has been made to bring back our forefathers' wisdom about eating to restore the connection of plate with people and planet.

Question ID : 26433059471  
Status : Answered  
Chosen Option : 1



**Comprehension:**

Read the given passage and answer the questions that follow.

From language to cultures - there are annals about India's diversity writ in bold. At the heart of everything we hold close is our love for food; the aroma from warm hearths wafts in the air, a heady mix of history and meals. So heady, that we often forget that food has a large carbon footprint, and the menace of ever-growing fast-food businesses that contribute the lion's share to this problem. However, India's rich traditional and local edible biodiversity, with its focus on home cooked food, presents a ray of hope. Indian members of Relais & Châteaux, in partnership with Slow Food International, hope to bring back our forefathers' wisdom when it comes to eating, through the Slow Food movement, which started in the 1980s and aims to bring to the fore the connection of plate with people and the planet. Calling for the protection and promotion of traditional techniques associated with regional food cultures is Jaisal Singh, owner of SUJAN group of hotels.

**SubQuestion No : 22**

**Q.22 Which of the following can be the most appropriate title of the passage?**

- Ans
- 1. The Menace of Large Carbon Footprint
  - 2. A Heady Mix of History and Meals
  - 3. Aroma from Warm Hearths
  - 4. Retracing Traditional and Local Wisdom of Eating

Question ID : 26433059469

Status : Answered

Chosen Option : 2

**Comprehension:**

Read the given passage and answer the questions that follow.

From language to cultures - there are annals about India's diversity writ in bold. At the heart of everything we hold close is our love for food; the aroma from warm hearths wafts in the air, a heady mix of history and meals. So heady, that we often forget that food has a large carbon footprint, and the menace of ever-growing fast-food businesses that contribute the lion's share to this problem. However, India's rich traditional and local edible biodiversity, with its focus on home cooked food, presents a ray of hope. Indian members of Relais & Châteaux, in partnership with Slow Food International, hope to bring back our forefathers' wisdom when it comes to eating, through the Slow Food movement, which started in the 1980s and aims to bring to the fore the connection of plate with people and the planet. Calling for the protection and promotion of traditional techniques associated with regional food cultures is Jaisal Singh, owner of SUJAN group of hotels.

**SubQuestion No : 23**

**Q.23 What does the term 'lion's share' refer to in this context?**

- Ans
- 1. Relating to non-vegetarian diet
  - 2. The share of the head of the institution
  - 3. The largest part of something
  - 4. Something that is negligible

Question ID : 26433059467

Status : Answered

Chosen Option : 3

**Comprehension:**

Read the given passage and answer the questions that follow.

From language to cultures - there are annals about India's diversity writ in bold. At the heart of everything we hold close is our love for food; the aroma from warm hearths wafts in the air, a heady mix of history and meals. So heady, that we often forget that food has a large carbon footprint, and the menace of ever-growing fast-food businesses that contribute the lion's share to this problem. However, India's rich traditional and local edible biodiversity, with its focus on home cooked food, presents a ray of hope. Indian members of Relais & Châteaux, in partnership with Slow Food International, hope to bring back our forefathers' wisdom when it comes to eating, through the Slow Food movement, which started in the 1980s and aims to bring to the fore the connection of plate with people and the planet. Calling for the protection and promotion of traditional techniques associated with regional food cultures is Jaisal Singh, owner of SUJAN group of hotels.

**SubQuestion No : 24**

**Q.24** Which event mentioned in the passage took place in the 1980s?

- Ans
- 1. Partnership of Indian members of Relais & Châteaux and Slow Food International
  - 2. Beginning of Slow Food movement
  - 3. Documents of the annals about India's diversity
  - 4. Leaving of large carbon footprint by food

Question ID : 26433059468

Status : Answered

Chosen Option : 2

**Comprehension:**

Read the given passage and answer the questions that follow.

From language to cultures - there are annals about India's diversity writ in bold. At the heart of everything we hold close is our love for food; the aroma from warm hearths wafts in the air, a heady mix of history and meals. So heady, that we often forget that food has a large carbon footprint, and the menace of ever-growing fast-food businesses that contribute the lion's share to this problem. However, India's rich traditional and local edible biodiversity, with its focus on home cooked food, presents a ray of hope. Indian members of Relais & Châteaux, in partnership with Slow Food International, hope to bring back our forefathers' wisdom when it comes to eating, through the Slow Food movement, which started in the 1980s and aims to bring to the fore the connection of plate with people and the planet. Calling for the protection and promotion of traditional techniques associated with regional food cultures is Jaisal Singh, owner of SUJAN group of hotels.

**SubQuestion No : 25**

**Q.25** What, according to the passage, is a possible way to manage the large carbon footprint caused by the fast-food industry?

- Ans
- 1. By consuming only home-cooked food.
  - 2. By associating with Slow Food International.
  - 3. By going back to traditional techniques of cooking and regional food cultures.
  - 4. By not participating in fast-food businesses at all.

Question ID : 26433059470

Status : Answered

Chosen Option : 1

Section : Quantitative Aptitude

Q.1 निम्नलिखित में से कौन-सा, सह-अभाज्य संख्याओं का युग्म नहीं है?

- Ans  1. 3, 7  
 2. 1, 4  
 3. 21, 22  
 4. 22, 24

Question ID : 26433063290  
Status : Answered  
Chosen Option : 4

Q.2 यदि  $x$  और  $y$  का समांतर और गुणोत्तर माध्य क्रमशः 8 और  $3\sqrt{7}$  है, तो  $x^3 + y^3$  का मान \_\_\_\_\_ है।

- Ans  1. 559  
 2. 1072  
 3. 945  
 4. 855

Question ID : 26433056367  
Status : Not Attempted and Marked For Review  
Chosen Option : --

Q.3 एक चुनाव में, 35% मतदाताओं ने उम्मीदवार P के लिए मतदान किया जबकि शेष में से 50% मतदाताओं ने उम्मीदवार Q के लिए मतदान किया। शेष मतदाताओं ने मतदान नहीं किया। यदि उम्मीदवार P को मत देने वालों और मत न देने वालों के बीच का अंतर 1000 था, तो उस चुनाव में मतदान करने के लिए योग्य व्यक्तियों की संख्या कितनी थी?

- Ans  1. 55000  
 2. 60000  
 3. 75000  
 4. 40000

Question ID : 26433058903  
Status : Answered  
Chosen Option : 4

Q.4 एक एयर कंडीशनर का अंकित मूल्य ₹45,000 है और इस पर 15% और 20% की दो क्रमिक छूटें उपलब्ध हैं। एयर कंडीशनर का विक्रय मूल्य ज्ञात कीजिए।

- Ans  1. ₹32,000  
 2. ₹31,600  
 3. ₹30,000  
 4. ₹30,600

Question ID : 26433061664  
Status : Answered  
Chosen Option : 4

Q.5 यदि 5 cm त्रिज्या वाले वृत्त के बिंदु P पर स्पर्श रेखा PQ केंद्र O से होकर जाने वाली एक रेखा को बिंदु Q पर इस प्रकार मिलती है कि OQ = 13 cm होता है, तो स्पर्श रेखा की लंबाई क्या है?

- Ans
- 1. 13 cm
  - 2. 11 cm
  - 3. 14 cm
  - 4. 12 cm

Question ID : 26433056885  
Status : Answered  
Chosen Option : 4

Q.6 यदि  $\operatorname{cosec}(A-B) = 2$  और  $\cot(A+B) = 1/\sqrt{3}$  है, तो A का मान क्या होगा?

- Ans
- 1.  $45^\circ$
  - 2.  $90^\circ$
  - 3.  $60^\circ$
  - 4.  $30^\circ$

Question ID : 26433058819  
Status : Answered  
Chosen Option : 1

Q.7 यदि एक समबाहु त्रिभुज का परिमाण 60 इकाई है, तो इसका क्षेत्रफल \_\_\_\_\_ इकाई<sup>2</sup> होगा।

- Ans
- 1.  $200\sqrt{3}$
  - 2.  $50\sqrt{3}$
  - 3.  $60\sqrt{3}$
  - 4.  $100\sqrt{3}$

Question ID : 26433056339  
Status : Answered  
Chosen Option : 4

Q.8 रितु ने दो टीवी सेट ₹4,800 प्रत्येक पर बेचे, जिनमें से एक पर 20% का लाभ हुआ और दूसरे पर 20% की हानि हुई। उसका कुल प्रतिशत लाभ या हानि ज्ञात कीजिए।

- Ans
- 1. 4% हानि
  - 2. 16% हानि
  - 3. 4% लाभ
  - 4. 16% लाभ

Question ID : 26433061656  
Status : Answered  
Chosen Option : 1

Q.9 दिनेश ने किताब का एक सेट ₹1,200 में खरीदा और उसे ₹900 में ही बेच दिया। उसके द्वारा हुई हानि का प्रतिशत ज्ञात कीजिए?

- Ans  1. 25%  
 2. 20%  
 3. 35%  
 4. 30%

Question ID : 26433061655  
Status : Answered  
Chosen Option : 1

Q.10 एक पुलिसकर्मी ने चोर को 80 मीटर की दूरी से देखा। चोर की चाल 21 km/h है और पुलिसकर्मी की चाल 20 km/h है। 18 सेकंड के बाद उनके बीच की दूरी क्या होगी?

- Ans  1. 90 मीटर  
 2. 70 मीटर  
 3. 95 मीटर  
 4. 85 मीटर

Question ID : 26433061081  
Status : Answered  
Chosen Option : 3

Q.11 पहली पाँच सम प्राकृत संख्याओं का औसत ज्ञात कीजिए।

- Ans  1. 7  
 2. 6  
 3. 4  
 4. 5

Question ID : 26433061634  
Status : Answered  
Chosen Option : 2

Q.12 मतदान करने के लिए पात्र लोगों में से 28% लोग 20 से 25 वर्ष के बीच के हैं। एक चुनाव में मतदान करने के लिए पात्र 20 से 25 वर्ष के बीच की उम्र वाले लोगों में से 75% ने वास्तव में मतदान किया। उस चुनाव में 20 से 25 वर्ष के बीच के व्यक्तियों की संख्या, जिन्होंने वास्तव में मतदान किया था, मतदान हेतु पात्र लोगों की संख्या का कितना प्रतिशत थी?

- Ans  1. 28%  
 2. 25%  
 3. 22%  
 4. 21%

Question ID : 26433056306  
Status : Answered  
Chosen Option : 4

Q.13 यदि P संख्याओं का औसत  $Q^2$  है और Q संख्याओं का औसत  $P^2$  है, तो  $(P + Q)$  संख्याओं का औसत क्या होगा?

- Ans  1. PQ  
 2.  $P - Q$   
 3.  $P + Q$   
 4.  $2PQ$

Question ID : 26433061636  
Status : Answered  
Chosen Option : 1

Q.14 0.9 और 1.5 का तृतीयानुपाती ज्ञात कीजिए।

- Ans  1. 2.8  
 2. 1.5  
 3. 2.5  
 4. 1.7

Question ID : 26433061672  
Status : Answered  
Chosen Option : 3

Q.15 पहली आठ विषम प्राकृत संख्याओं का औसत ज्ञात कीजिए।

- Ans  1. 8  
 2. 11  
 3. 10  
 4. 9

Question ID : 26433061635  
Status : Answered  
Chosen Option : 1

Q.16 आरिफ ने वार्षिक रूप से चक्रवृद्धि होने वाली 25% वार्षिक ब्याज दर पर लिया गया ऋण 3 वर्ष के बाद ₹15,625 का भुगतान करके चुकाया। ऋण की राशि कितनी थी?

- Ans  1. ₹8,000  
 2. ₹9,000  
 3. ₹9,500  
 4. ₹10,000

Question ID : 26433061684  
Status : Answered  
Chosen Option : 3

Q.17 महेश और सुरेश एक काम को क्रमशः 16 दिन और 12 दिन में समाप्त कर सकते हैं। महेश से शुरू करके, वे एकांतर आधार पर काम करते हैं। पूरे काम को समाप्त करने में कितने दिन लगेंगे?

- Ans
- ✓ 1.  $13\frac{3}{4}$  दिन
  - ✗ 2. 14 दिन
  - ✗ 3. 13 दिन
  - ✗ 4.  $13\frac{1}{4}$  दिन

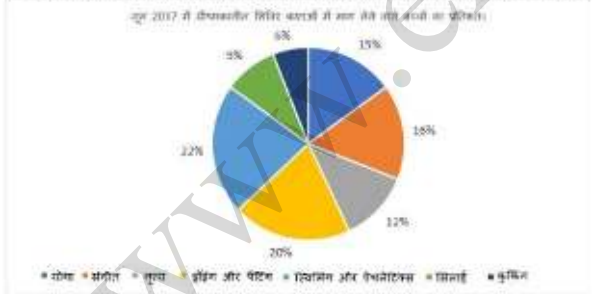
Question ID : 26433061693  
Status : Answered  
Chosen Option : 1

Q.18  $\frac{X}{Y}$  का मान क्या है, यदि  $\frac{X-5Y}{X+5Y} = \frac{7}{8}$  है?

- Ans
- ✗ 1.  $\frac{72}{5}$
  - ✓ 2.  $\frac{75}{1}$
  - ✗ 3.  $\frac{1}{75}$
  - ✗ 4.  $\frac{35}{33}$

Question ID : 26433063329  
Status : Answered  
Chosen Option : 2

Q.19 निम्न पाई-चार्ट जून 2017 में रीफ़मक्वालीन शिविर कक्षाओं में भाग लेने वाले बच्चों का प्रतिशत दर्शाता है। रीफ़मक्वालीन शिविर में भाग लेने वाले बच्चों की कुल संख्या 600 थी। पाई-चार्ट का ध्यानपूर्वक अध्ययन करें और निम्नलिखित प्रश्नों का उत्तर दें।



यदि जून 2016 की तुलना में इन कक्षाओं के लिए जून 2017 में बच्चों की संख्या में 20% की वृद्धि हुई तो जून 2016 में सिब्रिंग और ऐथलेटिक्स, और संगीत कक्षाओं में भाग लेने वाले बच्चों की कुल संख्या क्या थी?

- Ans
- ✗ 1. 210
  - ✗ 2. 178
  - ✓ 3. 190
  - ✗ 4. 228

Question ID : 26433063253  
Status : Answered  
Chosen Option : 1

Q.20 निम्न सारणी 5 विभागों में विभिन्न वर्गों के छात्रों की संख्या को दर्शाती है। सारणी का ध्यानपूर्वक अध्ययन करें और इस सारणी के आधार पर प्रश्न का उत्तर दीजिए।

वर्ग	विभाग				
	A	B	C	D	E
भौतिकी	400	500	350	300	600
रसायनविज्ञान	750	600	700	500	450
गणित	350	400	450	500	750
संगणकविज्ञान	250	300	380	550	600

सभी वर्गों के छात्रों की अधिकतम संख्या किस विभाग में है?

- Ans
- 1. B
  - 2. A
  - 3. C
  - 4. E

Question ID : 26433064040  
Status : Answered  
Chosen Option : 4

Q.21  $\triangle TAP$  में,  $\angle TAP = 60^\circ$ ,  $TA = 6$  cm,  $AP = 8$  cm है। K, AP का मध्यबिंदु है। K से एक रेखा TP से O पर इस प्रकार मिलने के लिए बढ़ाई जाती है कि  $\angle AKO = 120^\circ$  है। OK की लंबाई ज्ञात कीजिए।

- Ans
- 1. 4 cm
  - 2. 5 cm
  - 3. 3 cm
  - 4. 6 cm

Question ID : 26433061707  
Status : Not Answered  
Chosen Option : --

Q.22 यदि  $2^x = 3^y = 6^z$  है तो  $\frac{1}{x} + \frac{1}{y} - \frac{1}{z}$  निम्न में से किसके बराबर है?

- Ans
- 1.  $\frac{3}{2}$
  - 2.  $\frac{-1}{2}$
  - 3. 1
  - 4. 0

Question ID : 26433056892  
Status : Answered  
Chosen Option : 4



Q.23 यदि  $(a + b) = \sqrt{11}$  और  $(a - b) = \sqrt{7}$ , तो  $a^2 b^2 (a^2 + b^2)$  का मान क्या होगा?

- Ans
- 1. 11
  - 2. 7
  - 3. 5
  - 4. 9

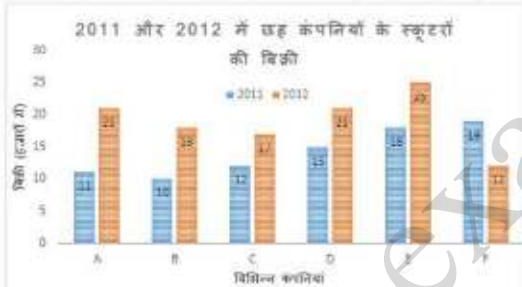
Question ID : 26433056371  
Status : Answered  
Chosen Option : 2

Q.24 यदि  $\theta = 120^\circ$  और  $p = \cos \theta + \sin \theta$  है, तो \_\_\_\_\_ होगा।

- Ans
- 1.  $p < 0$
  - 2.  $p \leq 0$
  - 3.  $p > 0$
  - 4.  $p \geq 0$

Question ID : 26433056355  
Status : Answered  
Chosen Option : 3

Q.25 निम्नलिखित दण्ड आरेख 2011 और 2012 में छह अलग-अलग कंपनियों के स्कूटरों की बिक्री (हजार संख्या में) दर्शाता है।



दोनों वर्षों में कंपनी C की कुल बिक्री का, दोनों वर्षों में कंपनी D की कुल बिक्री से अनुपात कितना है?

- Ans
- 1. 11 : 13
  - 2. 2 : 3
  - 3. 29 : 36
  - 4. 3 : 2

Question ID : 26433064943  
Status : Answered  
Chosen Option : 3

Section : General Awareness

Q.1 निम्नलिखित में से किस लेखक ने लघु कथाओं के संग्रह 'क्रिस्सा क्रिस्सा लखनउवा -लखनऊ के अवामी क्रिस्से' के लिए साहित्य अकादमी युवा पुरस्कार 2021 जीता?

- Ans
- 1. बिपाशा बोरा
  - 2. मनिका देवी
  - 3. हिमांशु वाजपेयी
  - 4. सादिक हुसैन

Question ID : 26433076915  
Status : Not Answered  
Chosen Option : --

Q.2 कांगड़ा और कुल्लू घाटी भारत के किस राज्य में स्थित हैं?

- Ans
- 1. जम्मू और कश्मीर
  - 2. हिमाचल प्रदेश
  - 3. उत्तराखंड
  - 4. उत्तर प्रदेश

Question ID : 26433077000  
Status : Answered  
Chosen Option : 3

Q.3 भारत की जनगणना 2011 के अनुसार, भारत के कुछ राज्यों के लिंगानुपात यहाँ दिए गए हैं। निम्नलिखित युग्मों को सही से सुमेलित कीजिए।

राज्य	महिलाएं प्रति 1000 पुरुष
1. गोवा	a. 996
2. तमिलनाडु	b. 979
3. मणिपुर	c. 985
4. ओडिशा	d. 973

- Ans
- 1. 1-b, 2-c, 3-a, 4-d
  - 2. 1-a, 2-b, 3-c, 4-d
  - 3. 1-b, 2-a, 3-c, 4-d
  - 4. 1-d, 2-a, 3-c, 4-b

Question ID : 26433076959  
Status : Not Answered  
Chosen Option : --

Q.4 निम्नलिखित में से किस नृत्यांगना को 1958 में रॉयल सोसाइटी फॉर द प्रिवेंशन ऑफ क्रुएल्टी टू एनिमल्स, लंदन (Royal Society for the Prevention of Cruelty to Animals, London) के क्वीन विक्टोरिया सिल्वर मेडल से सम्मानित किया गया था?

- Ans  1. रुक्मिणी देवी अरुंडेल  
 2. संजुक्ता पाणिग्रही  
 3. सोनल मानसिंह  
 4. सितारा देवी

Question ID : 26433071643  
Status : Answered  
Chosen Option : 3

Q.5 उत्तराखंड के पश्चिमी गढ़वाल क्षेत्र में स्थित यमुना नदी के हेडवाटर के लिए एक प्रमुख वाटरशेड कौन सा है?

- Ans  1. डोकरियानी ग्लेशियर  
 2. कफिनी ग्लेशियर  
 3. बंदरपंच ग्लेशियर  
 4. दूनागिरि ग्लेशियर

Question ID : 26433077272  
Status : Answered  
Chosen Option : 3

Q.6 26 जनवरी 1950 को, पहली बार गणतंत्र दिवस परेड \_\_\_\_\_ पर की गई थी।

- Ans  1. रामलीला मैदान  
 2. इरविन एम्फीथिएटर  
 3. राजपथ  
 4. किंग्स एवेन्यू

Question ID : 26433070818  
Status : Answered  
Chosen Option : 3

Q.7 निम्नलिखित में से कौन मुंबई में विश्व धरोहर स्थल, छत्रपति शिवाजी टर्मिनस के वास्तुकार हैं?

- Ans  1. विन्सेंट एस्च  
 2. जॉर्ज विटेट  
 3. एफ डब्ल्यू स्टीवंस  
 4. सैमुअल स्विंटन जैकब

Question ID : 26433070826  
Status : Answered  
Chosen Option : 2

Q.8 निम्नलिखित में से कौन-सी भारत के संविधान की एक ऐकिक विशेषता नहीं है?

- Ans
- 1. राष्ट्रपति द्वारा राज्यपाल की नियुक्ति
  - 2. एकल नागरिकता
  - 3. एकीकृत न्यायिक व्यवस्था
  - 4. द्विसदनी विधायिका

Question ID : 26433077131  
Status : Answered  
Chosen Option : 2

Q.9 उस प्रोटीन का नाम क्या है जो उन लंबी श्रृंखलाओं या तंतुओं में बहुलकित होता है जो ऐसी सूक्ष्म नलिकाएं और खोखले फाइबर बनाते हैं जो जीवित कोशिकाओं के लिए कंकाल तंत्र के रूप में कार्य करते हैं?

- Ans
- 1. ट्यूबुलिन
  - 2. इलास्टिन
  - 3. फेरिटिन
  - 4. फाइब्रिनोजेन

Question ID : 26433077283  
Status : Answered  
Chosen Option : 3

Q.10 अकबर ने किस वर्ष कश्मीर को मुगल साम्राज्य में मिला लिया था?

- Ans
- 1. 1592
  - 2. 1590
  - 3. 1580
  - 4. 1586

Question ID : 26433077050  
Status : Answered  
Chosen Option : 3

Q.11 स्वस्थ त्वचा और दांतों के लिए कौन सा अमीनो एसिड आवश्यक है, क्योंकि यह दांतों के इनेमल, कोलेजन और इलास्टिन का एक घटक होता है?

- Ans
- 1. अर्जिनीन (Arginine)
  - 2. ल्यूसीन (Leucine)
  - 3. थ्रिओनीन (Threonine)
  - 4. फेनिलएलनीन (Phenylalanine)

Question ID : 26433077289  
Status : Answered  
Chosen Option : 3

Q.12 भारत ने 2021 में \_\_\_\_\_ द्वारा आयोजित वैश्विक शिखर सम्मेलन में 'मिशन इनोवेशन क्लीन-टेक एक्सचेंज (Mission Innovation Clean-Tech Exchange)' शुरू किया था।

- Ans
- 1. यूनाइटेड किंगडम
  - 2. चिली
  - 3. फ्रांस
  - 4. भारत

Question ID : 26433077301  
Status : Answered  
Chosen Option : 3

Q.13 मुख्य चुनाव आयुक्त के रूप में, बंगाल चुनाव 2021 के दौरान मुख्यमंत्री ममता बनर्जी पर किसने गैग ऑर्डर (Gag orders) पास किए थे?

- Ans
- 1. सुनील अरोड़ा
  - 2. राजीव भटनागर
  - 3. राजीव कुमार
  - 4. सुशील चंद्रा

Question ID : 26433077388  
Status : Answered  
Chosen Option : 1

Q.14 1926 में भगत सिंह द्वारा नौजवान सभा की स्थापना किस शहर में की गई थी?

- Ans
- 1. दिल्ली
  - 2. लाहौर
  - 3. अमृतसर
  - 4. पेशावर

Question ID : 26433064119  
Status : Not Answered  
Chosen Option : --

Q.15 भारत में राष्ट्रीय मतदाता दिवस कब मनाया जाता है?

- Ans
- 1. 25 जनवरी को
  - 2. 25 दिसम्बर को
  - 3. 21 जून को
  - 4. 2 अक्टूबर को

Question ID : 26433077120  
Status : Not Answered  
Chosen Option : --

Q.16 कौन सा तैरता हुआ फ़र्न स्थानीय जीव-जंतुओं के लिए भोजन तथा आवास एवं पानी का प्रवाह प्रदान करने वाले देशी पौधों को उखाड़ कर और बदल कर जलीय पारिस्थितिक तंत्र को नुकसान पहुँचाता है?

- Ans
- 1. जाइंट साल्विनिया (Giant salvinia)
  - 2. ओस्मुंडा रेगलिस (Osmunda regalis)
  - 3. अजोला पिन्नाटा (Azolla pinnata)
  - 4. साल्विनिया मिनिमा (Salvinia minima)

Question ID : 26433077282  
Status : Not Answered  
Chosen Option : --

Q.17 1930 में \_\_\_\_\_ ने नासिक के कालाराम मंदिर में अछूतों के प्रवेश के अधिकारों के लिए सत्याग्रह का नेतृत्व किया था।

- Ans
- 1. एमसी राजा
  - 2. मदन मोहन मालवीय
  - 3. डॉ. बीआर अंबेडकर
  - 4. महात्मा गांधी

Question ID : 26433077044  
Status : Not Answered  
Chosen Option : --

Q.18 करधान कानून (संशोधन) विधेयक, 2021 द्वारा निम्नलिखित में से किसमें संशोधन किया गया है?

- Ans
- 1. वित्त अधिनियम, 2014
  - 2. आयकर अधिनियम, 1961
  - 3. आयकर अधिनियम, 1962
  - 4. आयकर अधिनियम, 1963

Question ID : 26433077382  
Status : Not Answered  
Chosen Option : --

Q.19 विलासिनी नाट्यम और वीरानाट्यम निम्नलिखित में से किस राज्य से संबंधित नृत्य हैं?

- Ans
- 1. आंध्र प्रदेश
  - 2. कर्नाटक
  - 3. तमिलनाडु
  - 4. केरल

Question ID : 26433076905  
Status : Not Answered  
Chosen Option : --

Q.20 निम्नलिखित में से कौन-सा भागीरथी नदी पर बहुउद्देश्यीय चट्टान और मिट्टी से भरा तटबंध बांध है?

- Ans
- 1. थीन बांध
  - 2. गांधीसागर बांध
  - 3. कोयना बांध
  - 4. टिहरी बांध

Question ID : 26433076992  
Status : Not Answered  
Chosen Option : --

Q.21 आर्य महिला समाज की स्थापना किसने की?

- Ans
- 1. सरला देवी चौधरानी
  - 2. पंडिता रमाबाई
  - 3. डी के कर्वे
  - 4. सरोजिनी नायडू

Question ID : 26433077026  
Status : Not Answered  
Chosen Option : --

Q.22 पश्चिम बंगाल के जिस राज्यपाल ने 2021 में मुख्यमंत्री ममता बनर्जी को विधायक के रूप में शपथ दिलाई थी, उनका नाम क्या है?

- Ans
- 1. श्री फागू चौहान
  - 2. श्री जगदीप धनखड़
  - 3. श्री बिस्वभूषण हरिचंदन
  - 4. प्रोफेसर जगदीश मुखी

Question ID : 26433077387  
Status : Not Answered  
Chosen Option : --

Q.23 भारत सरकार द्वारा कितने धार्मिक समुदायों को अल्पसंख्यक के रूप में अधिसूचित किया गया है?

- Ans
- 1. चार
  - 2. तीन
  - 3. पाँच
  - 4. छः

Question ID : 26433054088  
Status : Not Answered  
Chosen Option : --

Q.24 1951 की जनगणना के अनुसार भारत की साक्षरता दर क्या थी?

- Ans
- ✓ 1. 18.33 %
  - ✗ 2. 19.23 %
  - ✗ 3. 20.42 %
  - ✗ 4. 24.46 %

Question ID : 26433066600  
Status : Not Answered  
Chosen Option : --

Q.25 गहन मिशन इंद्रधनुष 3.0 क्या है?

- Ans
- ✗ 1. स्वच्छ स्कूल अभियान
  - ✗ 2. स्कूलों के टॉपर्स को सम्मान
  - ✗ 3. सरकारी स्कूलों के लिए डिजिटल शिक्षा अभियान
  - ✓ 4. गर्भवती महिलाओं और बच्चों के लिए टीकाकरण अभियान

Question ID : 26433077385  
Status : Not Answered  
Chosen Option : --

Visit Website - Click Here