

Phase X/2022/Selection Posts and Selection Posts/Ladakh/2022

Roll Number	
Candidate Name	
Venue Name	
Exam Date	03/08/2022
Exam Time	9:00 AM - 10:00 AM
Subject	Selection Post Phase X Matriculation Level

Section : General Intelligence

www.examphase.com

Q.1 नीचे दो कथन दिए गए हैं, जिनके बाद दो निष्कर्ष I और II दिए गए हैं। कथनों को सत्य मानते हुए, भले ही वे सामान्य रूप से ज्ञात तथ्यों से भिन्न प्रतीत होते हों, यह निर्णय लीजिए कि कौन-सा/से निष्कर्ष कथनों का तार्किक रूप से अनुसरण करता है/करते हैं।

कथन:

कुछ डिफेक्ट, प्रॉब्लम हैं।

कुछ प्रॉब्लम, सॉल्यूशन हैं।

निष्कर्ष:

I. कुछ डिफेक्ट के सॉल्यूशन होने की संभावना है।

II. कोई सॉल्यूशन, डिफेक्ट नहीं है।

- Ans
- 1. केवल निष्कर्ष II अनुसरण करता है
 - 2. न तो निष्कर्ष I अनुसरण करता है और न ही II अनुसरण करता है
 - 3. केवल निष्कर्ष I अनुसरण करता है
 - 4. निष्कर्ष I और II दोनों अनुसरण करते हैं

Question ID : 26433055221

Status : Answered

Chosen Option : 3

Q.2 एक निश्चित कूट भाषा में 'CLOCK' को 'XHLAJ' लिखा जाता है और 'FAITH' को 'AWFRG' लिखा जाता है। उस भाषा में 'BEACH' को कैसे लिखा जाएगा?

- Ans
- 1. AAXBG
 - 2. ABXCG
 - 3. HCAEB
 - 4. WAXAG

Question ID : 26433056570

Status : Answered

Chosen Option : 4

Q.3 एक निश्चित कूट भाषा में, 'SEA' को '75' लिखा जाता है, और 'POND' को '196' लिखा जाता है। उसी भाषा में 'LAKE' को कैसे लिखा जाएगा?

- Ans
- 1. 120
 - 2. 112
 - 3. 124
 - 4. 116

Question ID : 26433055705

Status : Answered

Chosen Option : 4

Q.4 दी गई श्रृंखला को पूरा करने के लिए कौन-सा अक्षर-समूह प्रश्न चिह्न (?) को प्रतिस्थापित करेगा?
JDTY, LHRU, NLPQ, ?, RTLI

- Ans
- 1. PONL
 - 2. PPNM
 - 3. PPON
 - 4. PQML

Question ID : 26433055240
Status : Answered
Chosen Option : 2

Q.5 एक निश्चित कूट भाषा में, "JUNIOR" को "LWNIQT" लिखा जाता है, और "LABOUR" को "NCBOWT" लिखा जाता है। उसी भाषा में, "MAKING" को कैसे लिखा जाएगा?

- Ans
- 1. OCKIOI
 - 2. OBKIPI
 - 3. OCKIPI
 - 4. OCKQPI

Question ID : 26433055174
Status : Answered
Chosen Option : 2

Q.6 निम्नलिखित श्रृंखला में प्रश्नवाचक चिह्न (?) के स्थान पर कौन-सी संख्या आएगी?
11, 19, ?, 49, 79, 128

- Ans
- 1. 40
 - 2. 38
 - 3. 30
 - 4. 28

Question ID : 26433055294
Status : Answered
Chosen Option : 3

Q.7 नीचे दो कथन दिए गए हैं, जिनके बाद दो निष्कर्ष I और II दिए गए हैं। कथनों को सत्य मानते हुए, भले ही वे सामान्य रूप से ज्ञात तथ्यों से भिन्न प्रतीत होते हों, यह निर्णय लीजिए कि कौन-सा/से निष्कर्ष कथनों का तार्किक रूप से अनुसरण करता है/करते हैं।

कथन:

कुछ आंकड़े, संख्याएँ हैं।

कुछ संख्याएँ, अंक हैं।

निष्कर्ष:

I. कोई आंकड़े, अंक नहीं है।

II. सभी अंक, आंकड़े हैं।

- Ans
- 1. केवल निष्कर्ष I अनुसरण करता है
 - 2. निष्कर्ष I और II दोनों अनुसरण करते हैं
 - 3. न तो निष्कर्ष I अनुसरण करता है और न ही II अनुसरण करता है
 - 4. केवल निष्कर्ष II अनुसरण करता है

Question ID : 26433055216
Status : Answered
Chosen Option : 3

Q.8 उस विकल्प का चयन करें, जो पाँचवें अक्षर-समूह से उसी प्रकार संबंधित है, जिस प्रकार दूसरा अक्षर-समूह पहले अक्षर-समूह से संबंधित है और चौथा अक्षर-समूह तीसरे अक्षर-समूह से संबंधित है।
AGES : YDCO :: FAIR : DXGN :: LIFE : ?

- Ans 1. JFDA
 2. JEDA
 3. JEDB
 4. JFDB

Question ID : 26433056187
Status : Answered
Chosen Option : 1

Q.9 उस विकल्प का चयन कीजिए जो पांचवें अक्षर-समूह से उसी प्रकार संबंधित है जिस प्रकार दूसरा अक्षर-समूह पहले अक्षर-समूह से संबंधित है और चौथा अक्षर-समूह तीसरे अक्षर-समूह से संबंधित है।
FOREST : EROFTS :: LETTER : TTELRE :: SELECT : ?

- Ans 1. ELESTC
 2. EELSTC
 3. CTELES
 4. TCSLEE

Question ID : 26433056397
Status : Answered
Chosen Option : 2

Q.10 दर्पण को नीचे दिखाए अनुसार 'PQ' पर रखे जाने पर दिए गए संयोजन की सही दर्पण छवि का चयन करें।

S K E B Y T |
P
Q

- Ans 1. T K E B Y T
 2. T Y B E K S
 3. T S K E B Y T
 4. S K E B Y T

Question ID : 26433056836
Status : Answered
Chosen Option : 4

Q.11 उस विकल्प का चयन करें, जो दिए गए शब्दों के उस सही क्रम का निरूपण करता है, जिस क्रम में वे अंग्रेजी शब्दकोश में दिखाई देते हैं।

1. Plunge
2. Pulse
3. Police
4. Prudent
5. Purse
6. Palate

Ans ✓ 1. 6, 1, 3, 4, 2, 5

✗ 2. 6, 1, 4, 3, 2, 5

✗ 3. 6, 3, 1, 4, 2, 5

✗ 4. 6, 1, 3, 4, 5, 2

Question ID : 26433056716

Status : Answered

Chosen Option : 4

Q.12 P @ Q' का अर्थ है 'P, Q की पत्नी है'
'P & Q' का अर्थ है 'P, Q का पिता है'
'P # Q' का अर्थ है 'P, Q की माँ है'
यदि 'A # B @ C & D @ E', तो D, A से किस प्रकार संबंधित है?

Ans ✗ 1. बेटी का पति

✓ 2. बेटी की बेटी

✗ 3. माँ की माँ

✗ 4. पिता की माँ

Question ID : 26433056799

Status : Answered

Chosen Option : 2

Q.13 एक निश्चित कूट भाषा में 'CONGRESS' को 'RTDSFOND' के रूप में और 'COUNTRY' को 'ZQUMVND' के रूप में लिखा जाता है। उसी कूट भाषा में 'CONTROL' को कैसे लिखा जाएगा?

Ans ✗ 1. KPSSONB

✓ 2. MNSSOND

✗ 3. KPQUMND

✗ 4. KPQUMPB

Question ID : 26433056197

Status : Answered

Chosen Option : 2

Q.14 तस्वीर में एक व्यक्ति की ओर इशारा करते हुए, एक पुरुष कुमार ने कहा, "वह मेरी बहन के ससुर की पत्नी सुषमा का पुत्र है।" सुषमा का केवल एक ही पुत्र है। वह व्यक्ति कुमार से किस प्रकार संबंधित है?

Ans ✗ 1. भांजा

✗ 2. पुत्र

✗ 3. ससुर

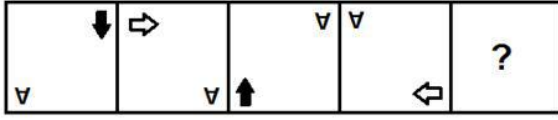
✓ 4. जीजा

Question ID : 26433056666

Status : Answered

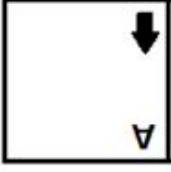
Chosen Option : 4

Q.15 प्रस्तुत विकल्पों में से वह आकृति चुनिए, जो निम्नलिखित श्रृंखला में प्रश्न-चिह्न (?) को प्रतिस्थापित कर सके।

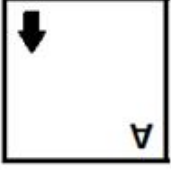


Ans

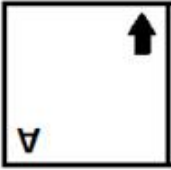
✗ 1.



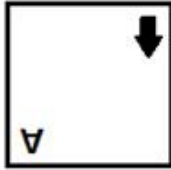
✗ 2.



✗ 3.



✓ 4.



Question ID : 26433055944

Status : Answered

Chosen Option : 3

Q.16 एक निश्चित कूट भाषा में 'want to go fishing' को '4227' के रूप में लिखा जाता है, 'deep in the sea' को '4233' के रूप में लिखा जाता है, 'under the clear blue sky' को '53543' के रूप में लिखा जाता है। इसी कूट भाषा में वाक्य 'come along with me' को किस प्रकार लिखा जाएगा?

Ans ✓ 1. 4542

✗ 2. 5432

✗ 3. 4442

✗ 4. 5442

Question ID : 26433056741

Status : Answered

Chosen Option : 1

Q.17 उस विकल्प का चयन करें, जो अक्षरों को इस प्रकार निरूपित करता है कि जब नीचे दिए गए रिक्त स्थानों में क्रमानुसार बाएँ से दाएँ रखा जाए, तो अक्षर श्रृंखला पूरी हो जाएगी।

T A _ B L _ E _ A A _ L L _ T _ A B _ L E

- Ans
- 1. ALTBEAL
 - 2. ATLBEAL
 - 3. BEALATL
 - 4. AABTLEA

Question ID : 26433056291
Status : Answered
Chosen Option : 1

Q.18 दिया गया समीकरण संतुलित करने के लिए दिए गए विकल्पों में से किन दो संख्याओं को (न कि संख्याओं के अंकों को) परस्पर बदला जाना चाहिए?
 $36 \div 6 + 8 - 2 \times 5 = -4$

- Ans
- 1. 36 और 8
 - 2. 2 और 8
 - 3. 2 और 6
 - 4. 6 और 8

Question ID : 26433055971
Status : Answered
Chosen Option : 3

Q.19 उस विकल्प का चयन करें, जो उन अक्षरों को दर्शाता है, जिन्हें निम्नलिखित रिक्त स्थानों में बाएँ से दाएँ क्रमिक रूप से रखे जाने पर दी गई अक्षर-श्रृंखला पूरी हो जाएगी।
T _ U _ P _ Y _ I P T _ U I _ T Y _ _ P

- Ans
- 1. YUTUYPPPI
 - 2. YITUYPPI
 - 3. YITUYPUI
 - 4. YUTIYPPI

Question ID : 26433056149
Status : Answered
Chosen Option : 2

Q.20 उस विकल्प का चयन करें, जो पाँचवीं संख्या से उसी प्रकार संबंधित है, जिस प्रकार दूसरी संख्या, पहली संख्या से संबंधित है और चौथी संख्या, तीसरी संख्या से संबंधित है।
 $149 : 12 :: 230 : 15 :: 294 : ?$

- Ans
- 1. 20
 - 2. 21
 - 3. 19
 - 4. 17

Question ID : 26433069404
Status : Answered
Chosen Option : 4

Q.21 एक निश्चित कूट भाषा में 'JUPITER' को 'PWRKVGH' के रूप में और 'SATURN' को 'LCVWTQ' के रूप में लिखा जाता है। उसी कूट भाषा में 'ASTEROID' को कैसे लिखा जाएगा?

- Ans
- 1. FUVGTQKC
 - 2. BUVTGTQKY
 - 3. CUVGTQKF
 - 4. YUVGTQKB

Question ID : 26433056213
Status : Answered
Chosen Option : 2

Q.22 उस विकल्प का चयन करें, जो उन अक्षरों को दर्शाता है, जिन्हें निम्नलिखित रिक्त स्थानों में बाएँ से दाएँ क्रमिक रूप से रखे जाने पर दी गई अक्षर-श्रृंखला पूरी हो जाएगी।
A _ _ S D _ G F _ D A G _ S _ A _ F _ D

- Ans
- 1. GFASFGDS
 - 2. GFASFDGS
 - 3. GFSAFDGS
 - 4. GFSADFGS

Question ID : 26433056158
Status : Answered
Chosen Option : 2

Q.23 एक कूट भाषा में, 'SPORTY' को 'QMKNR' लिखा जाता है और 'PREYS' को 'NOATM' लिखा जाता है। उसी भाषा में 'CLIP' को कैसे लिखा जाएगा?

- Ans
- 1. AJEL
 - 2. AIEK
 - 3. AJFK
 - 4. AIFL

Question ID : 26433055254
Status : Answered
Chosen Option : 2

Q.24 उस विकल्प का चयन कीजिए, जो दिए गए शब्दों का ऐसा सही क्रम निरूपित करता है, जैसाकि वे किसी अंग्रेजी शब्दकोश में दिखेंगे।

1. Jaundice
2. Jackal
3. Jargon
4. Janitor
5. Jamaica
6. Javelin

- Ans
- 1. 2, 5, 4, 3, 1, 6
 - 2. 6, 2, 1, 5, 4, 3
 - 3. 1, 6, 2, 5, 4, 3
 - 4. 1, 2, 5, 4, 3, 6

Question ID : 26433056257
Status : Answered
Chosen Option : 1

Q.25 नीचे दो कथन और दो निष्कर्ष दिए गए हैं। कथनों को सत्य मानें, भले ही वे सर्वज्ञात तथ्यों से भिन्न हों और निर्णय लें कि कौन-सा/से निष्कर्ष दिए गए कथनों का अनुसरण करता है / करते हैं।

कथन:

कुछ बैग, बोरे हैं।

कुछ बोरे, जूट हैं।

निष्कर्ष:

I. कुछ बैग, जूट हैं।

II. कुछ जूट, बोरे हैं।

- Ans
- 1. न तो निष्कर्ष I अनुसरण करता है और न ही II अनुसरण करता है
 - 2. केवल निष्कर्ष II अनुसरण करता है
 - 3. या तो निष्कर्ष I अनुसरण करता है या II अनुसरण करता है
 - 4. केवल निष्कर्ष I अनुसरण करता है

Question ID : 26433056636

Status : Answered

Chosen Option : 2

Section : English Language

Q.1 Select the option that expresses the given sentence in indirect speech.

The instructor said to the student, "Can you explain this?"

- Ans
- 1. The instructor asked the student whether she could explain that.
 - 2. The instructor asked the student whether she can explain that.
 - 3. The instructor asked the student whether she could explain this.
 - 4. The instructor asked the student whether she can explain this.

Question ID : 26433060568

Status : Answered

Chosen Option : 1

Q.2 Select the option that can be used as a one-word substitute for the given group of words.

The arrangement of events or dates in the order of their occurrence

- Ans
- 1. Morphology
 - 2. Dialectology
 - 3. Periodic
 - 4. Chronology

Question ID : 26433060294

Status : Answered

Chosen Option : 3

Q.3 Substitute one word for the italicised expression.

Shelley was also known for his association with John Keats and Lord Byron as these were *the men living in the same age*.

- Ans
- 1. old-fashioned
 - 2. succeeding
 - 3. contemporaries
 - 4. preceding

Question ID : 26433059628
Status : Not Answered
Chosen Option : --

Q.4 Select the most appropriate meaning of the given idiom.

Better late than never

- Ans
- 1. It is better not to attend if late
 - 2. It is bad to read late
 - 3. It is better to reach late than never arrive
 - 4. It is not good to reach late

Question ID : 26433060802
Status : Answered
Chosen Option : 3

Q.5 Select the most appropriate ANTONYM of the given word.

Dictatorship

- Ans
- 1. Communism
 - 2. Republic
 - 3. Democracy
 - 4. Monarchy

Question ID : 26433060004
Status : Answered
Chosen Option : 1

Q.6 Select the option that expresses the given sentence in passive voice.

The car hit the pole beside the shop before the accident.

- Ans
- 1. The pole beside the shop was hit by the car before the accident.
 - 2. The pole beside the shop were hit by the car before the accident.
 - 3. The pole beside the shop hit by the car before the accident.
 - 4. The pole beside the shop had been hit by the car before the accident.

Question ID : 26433060601
Status : Answered
Chosen Option : 1

Q.7 Select the most appropriate meaning of the given idiom.

Gift of the gab

- Ans 1. A talent of lying well
 2. A talent of speaking well
 3. Gift from a friend
 4. A very poor gift

Question ID : 26433060227
Status : Answered
Chosen Option : 2

Q.8 Select the most appropriate synonym of the given word.

Haughty

- Ans 1. Modest
 2. Lowly
 3. Arrogant
 4. Humble

Question ID : 26433059638
Status : Answered
Chosen Option : 1

Q.9 Select the most appropriate ANTONYM of the given word.

Cease

- Ans 1. quit
 2. halt
 3. terminate
 4. begin

Question ID : 26433059806
Status : Answered
Chosen Option : 4

Q.10 Select the most appropriate option to fill in the blank.

The strange noise which came from the room created a _____ among the students.

- Ans 1. transport
 2. deficit
 3. civility
 4. panic

Question ID : 26433060620
Status : Answered
Chosen Option : 4

Q.11 Select the INCORRECTLY spelt word.

- Ans 1. Thressold
 2. Leisure
 3. Filial
 4. Supersede

Question ID : 26433060208
Status : Answered
Chosen Option : 3

Q.12 Select the INCORRECTLY spelt word.

- Ans 1. Camphor
 2. Building
 3. Buisness
 4. Camouflage

Question ID : 26433060418
Status : Answered
Chosen Option : 3

Q.13 Select the INCORRECTLY spelt word

- Ans 1. Deceive
 2. Conceit
 3. Counterfeit
 4. Protien

Question ID : 26433060236
Status : Answered
Chosen Option : 3

Q.14 Select the most appropriate synonym of the given word.

Turbulent

- Ans 1. Disordered
 2. Restricted
 3. Patterned
 4. Capitalised

Question ID : 26433060358
Status : Answered
Chosen Option : 1

Q.15 Select the option that can be used as a one-word substitute for the underlined group of words.

Hana was excited to study about the origin, composition and structure of rocks.

- Ans 1. Petrology
 2. Tetralogy
 3. Tectonics
 4. Geology

Question ID : 26433060394

Status : Answered

Chosen Option : 2

Comprehension:

In the following passage, some words have been deleted. Read the passage carefully and select the most appropriate option to fill in each blank.

Countries should act to establish mechanisms (1) _____ women's equal participation and equitable representation at all levels of the political process and public life in each community and society and enabling women to articulate their concerns and needs. Government and organisations should try (2) _____ all practices that discriminate (3) _____ women; assisting women to establish and realise their rights, including those that relate to reproductive and sexual health. Adopting appropriate measures to improve women's ability to earn income beyond traditional occupations, achieve economic self-reliance and ensure women's equal access to the labour market and social security systems IS NECESSARY... Also, violence and safety is a major (4) _____ to women in society. Domestic violence, rapes, etc are alarmingly increasing day by day. More so, because women are afraid to speak up. Similarly, the women who do the same work get paid less than their male counterparts. It is (5) _____ unfair and sexist to pay someone less for the same work because of their gender. Thus, we see how women's empowerment is the need of the hour.

SubQuestion No : 16

Q.16 Select the most appropriate option to fill in blank number 1.

- Ans 1. from
 2. on
 3. about
 4. for

Question ID : 26433072005

Status : Answered

Chosen Option : 4

Comprehension:

In the following passage, some words have been deleted. Read the passage carefully and select the most appropriate option to fill in each blank.

Countries should act to establish mechanisms (1) _____ women's equal participation and equitable representation at all levels of the political process and public life in each community and society and enabling women to articulate their concerns and needs. Government and organisations should try (2) _____ all practices that discriminate (3) _____ women; assisting women to establish and realise their rights, including those that relate to reproductive and sexual health. Adopting appropriate measures to improve women's ability to earn income beyond traditional occupations, achieve economic self-reliance and ensure women's equal access to the labour market and social security systems IS NECESSARY... Also, violence and safety is a major (4) _____ to women in society. Domestic violence, rapes, etc are alarmingly increasing day by day. More so, because women are afraid to speak up. Similarly, the women who do the same work get paid less than their male counterparts. It is (5) _____ unfair and sexist to pay someone less for the same work because of their gender. Thus, we see how women's empowerment is the need of the hour.

SubQuestion No : 17

Q.17 Select the most appropriate option to fill in blank number 2.

- Ans
- 1. precluding
 - 2. exiling
 - 3. blacklisting
 - 4. eliminating

Question ID : 26433072006

Status : Answered

Chosen Option : 3

Comprehension:

In the following passage, some words have been deleted. Read the passage carefully and select the most appropriate option to fill in each blank.

Countries should act to establish mechanisms (1) _____ women's equal participation and equitable representation at all levels of the political process and public life in each community and society and enabling women to articulate their concerns and needs. Government and organisations should try (2) _____ all practices that discriminate (3) _____ women; assisting women to establish and realise their rights, including those that relate to reproductive and sexual health. Adopting appropriate measures to improve women's ability to earn income beyond traditional occupations, achieve economic self-reliance and ensure women's equal access to the labour market and social security systems IS NECESSARY... Also, violence and safety is a major (4) _____ to women in society. Domestic violence, rapes, etc are alarmingly increasing day by day. More so, because women are afraid to speak up. Similarly, the women who do the same work get paid less than their male counterparts. It is (5) _____ unfair and sexist to pay someone less for the same work because of their gender. Thus, we see how women's empowerment is the need of the hour.

SubQuestion No : 18

Q.18 Select the most appropriate option to fill in blank number 3.

- Ans
- 1. rebel
 - 2. against
 - 3. contradict
 - 4. athwart

Question ID : 26433072007

Status : Answered

Chosen Option : 2

Comprehension:

In the following passage, some words have been deleted. Read the passage carefully and select the most appropriate option to fill in each blank.

Countries should act to establish mechanisms (1) _____ women's equal participation and equitable representation at all levels of the political process and public life in each community and society and enabling women to articulate their concerns and needs. Government and organisations should try (2) _____ all practices that discriminate (3) _____ women; assisting women to establish and realise their rights, including those that relate to reproductive and sexual health. Adopting appropriate measures to improve women's ability to earn income beyond traditional occupations, achieve economic self-reliance and ensure women's equal access to the labour market and social security systems IS NECESSARY... Also, violence and safety is a major (4) _____ to women in society. Domestic violence, rapes, etc are alarmingly increasing day by day. More so, because women are afraid to speak up. Similarly, the women who do the same work get paid less than their male counterparts. It is (5) _____ unfair and sexist to pay someone less for the same work because of their gender. Thus, we see how women's empowerment is the need of the hour.

SubQuestion No : 19

Q.19 Select the most appropriate option to fill in blank number 4.

- Ans
- 1. trap
 - 2. retreat
 - 3. snare
 - 4. threat

Question ID : 26433072008

Status : Answered

Chosen Option : 1

Comprehension:

In the following passage, some words have been deleted. Read the passage carefully and select the most appropriate option to fill in each blank.

Countries should act to establish mechanisms (1) _____ women's equal participation and equitable representation at all levels of the political process and public life in each community and society and enabling women to articulate their concerns and needs. Government and organisations should try (2) _____ all practices that discriminate (3) _____ women; assisting women to establish and realise their rights, including those that relate to reproductive and sexual health. Adopting appropriate measures to improve women's ability to earn income beyond traditional occupations, achieve economic self-reliance and ensure women's equal access to the labour market and social security systems IS NECESSARY... Also, violence and safety is a major (4) _____ to women in society. Domestic violence, rapes, etc are alarmingly increasing day by day. More so, because women are afraid to speak up. Similarly, the women who do the same work get paid less than their male counterparts. It is (5) _____ unfair and sexist to pay someone less for the same work because of their gender. Thus, we see how women's empowerment is the need of the hour.

SubQuestion No : 20

Q.20 Select the most appropriate option to fill in blank number 5.

- Ans
- 1. laconic
 - 2. downright
 - 3. frank
 - 4. foursquare

Question ID : 26433072009

Status : Answered

Chosen Option : 3

Comprehension:

Read the given passage and answer the questions that follow.

Many scientists believe that oceans will not look the same in the future. Oceans will change their colour. The reason behind this scenario will be climatic change as it will make the blue and green colour of the oceans bluer and greener, respectively. Many scientific researchers have proven that it will stimulate the growth of many creatures that live in oceans and affect the colour we see. The reason we find an ocean blue is the combination is the sunlight's interaction with water molecules and whichever creatures live in the water. The molecules presented in water absorb all colours except blue which is reflected back. The green colour of the water is because of Phytoplankton which are tiny microscopic organisms like plants that use sunlight to create a chemical energy which is essential for their survival.

SubQuestion No : 21

Q.21 Select the word from the passage that best explains the given word.

Phytoplankton

- Ans** ✓ 1. Organisms
✗ 2. Molecules
✗ 3. Plants
✗ 4. Creatures

Question ID : 26433072867
Status : Answered
Chosen Option : 2

Comprehension:

Read the given passage and answer the questions that follow.

Many scientists believe that oceans will not look the same in the future. Oceans will change their colour. The reason behind this scenario will be climatic change as it will make the blue and green colour of the oceans bluer and greener, respectively. Many scientific researchers have proven that it will stimulate the growth of many creatures that live in oceans and affect the colour we see. The reason we find an ocean blue is the combination is the sunlight's interaction with water molecules and whichever creatures live in the water. The molecules presented in water absorb all colours except blue which is reflected back. The green colour of the water is because of Phytoplankton which are tiny microscopic organisms like plants that use sunlight to create a chemical energy which is essential for their survival.

SubQuestion No : 22

Q.22 Select the most appropriate synonym of the given word.

Absorb

- Ans** ✗ 1. Embrace
✗ 2. Replace
✗ 3. Renew
✓ 4. Assimilate

Question ID : 26433072865
Status : Answered
Chosen Option : 4

Comprehension:

Read the given passage and answer the questions that follow.

Many scientists believe that oceans will not look the same in the future. Oceans will change their colour. The reason behind this scenario will be climatic change as it will make the blue and green colour of the oceans bluer and greener, respectively. Many scientific researchers have proven that it will stimulate the growth of many creatures that live in oceans and affect the colour we see. The reason we find an ocean blue is the combination is the sunlight's interaction with water molecules and whichever creatures live in the water. The molecules presented in water absorb all colours except blue which is reflected back. The green colour of the water is because of Phytoplankton which are tiny microscopic organisms like plants that use sunlight to create a chemical energy which is essential for their survival.

SubQuestion No : 23

Q.23 Select the most appropriate synonym of the given word.

Survival

- Ans 1. Start
 2. Existence
 3. Close
 4. Change

Question ID : 26433072866

Status : Answered

Chosen Option : 2

Comprehension:

Read the given passage and answer the questions that follow.

Many scientists believe that oceans will not look the same in the future. Oceans will change their colour. The reason behind this scenario will be climatic change as it will make the blue and green colour of the oceans bluer and greener, respectively. Many scientific researchers have proven that it will stimulate the growth of many creatures that live in oceans and affect the colour we see. The reason we find an ocean blue is the combination is the sunlight's interaction with water molecules and whichever creatures live in the water. The molecules presented in water absorb all colours except blue which is reflected back. The green colour of the water is because of Phytoplankton which are tiny microscopic organisms like plants that use sunlight to create a chemical energy which is essential for their survival.

SubQuestion No : 24

Q.24 Identify the tone of the given passage.

- Ans 1. Imaginative
 2. Reciprocal
 3. Interactive
 4. Informative

Question ID : 26433072868

Status : Answered

Chosen Option : 4

Comprehension:

Read the given passage and answer the questions that follow.

Many scientists believe that oceans will not look the same in the future. Oceans will change their colour. The reason behind this scenario will be climatic change as it will make the blue and green colour of the oceans bluer and greener, respectively. Many scientific researchers have proven that it will stimulate the growth of many creatures that live in oceans and affect the colour we see. The reason we find an ocean blue is the combination is the sunlight's interaction with water molecules and whichever creatures live in the water. The molecules presented in water absorb all colours except blue which is reflected back. The green colour of the water is because of Phytoplankton which are tiny microscopic organisms like plants that use sunlight to create a chemical energy which is essential for their survival.

SubQuestion No : 25

Q.25 Choose the most appropriate title for the passage.

- Ans
- 1. Weather Conditions
 - 2. Ocean Colour
 - 3. Blue and Green
 - 4. Climate Change

Question ID : 26433072864
Status : Answered
Chosen Option : 2

Section : Quantitative Aptitude

Q.1 A और B किसी कार्य को क्रमशः 12 दिनों और 18 दिनों में पूरा कर सकते हैं। A कार्य करना प्रारंभ करता है और वे एकांतर दिनों में कार्य करते हैं, अर्थात् एक दिन A और दूसरे दिन B के आधार पर कार्य करते हैं। पूरा कार्य _____ में पूरा हो जाएगा?

- Ans
- 1. $14\frac{1}{3}$ दिनों
 - 2. $12\frac{2}{3}$ दिनों
 - 3. $14\frac{2}{3}$ दिनों
 - 4. $12\frac{1}{3}$ दिनों

Question ID : 26433063964
Status : Answered
Chosen Option : 1

Q.2 16 विद्यार्थियों के अंकों का समान्तर माध्य 320 है। इन अंकों का योग ज्ञात करें।

- Ans
- 1. 6240
 - 2. 5320
 - 3. 5120
 - 4. 7150

Question ID : 26433061240
Status : Answered
Chosen Option : 3

Q.3 एक आयत और एक वर्ग में से प्रत्येक का परिमाण 160 m है। आयत का क्षेत्रफल, वर्ग के क्षेत्रफल से 100 m² कम है। आयत की लंबाई _____ है।

- Ans
- 1. 55 m
 - 2. 60 m
 - 3. 50 m
 - 4. 65 m

Question ID : 26433063968
Status : Answered
Chosen Option : 3

Q.4 0.08, 0.12 और 6 का चतुर्थानुपाती _____ है।

- Ans
- 1. 10
 - 2. 0.09
 - 3. 0.13
 - 4. 9

Question ID : 26433063714
Status : Answered
Chosen Option : 4

Q.5 एक बेईमान दुकानदार अपने माल को क्रय मूल्य पर बेचने का दावा करता है, लेकिन वह kg वजन के बदले 900 g वजन का उपयोग करता है। उसका लाभ प्रतिशत ज्ञात कीजिए।

- Ans
- 1. 11.11%
 - 2. 12.12%
 - 3. 10.10%
 - 4. 13.33%

Question ID : 26433065069
Status : Answered
Chosen Option : 1

Q.6 $13\frac{1}{2}$, $9\frac{3}{4}$ और $7\frac{4}{5}$ का चतुर्थानुपाती ज्ञात कीजिए।

- Ans
- 1. $4\frac{17}{36}$
 - 2. $5\frac{19}{30}$
 - 3. $7\frac{9}{20}$
 - 4. $6\frac{11}{24}$

Question ID : 26433063222
Status : Answered
Chosen Option : 2

Q.7 एक शिक्षक छात्रों को चक्रवृद्धि का व्यावहारिक अनुभव सिखा रहा है। छात्रों द्वारा दो वर्ष की अवधि के लिए Rs.1,00,000 की राशि 10% चक्रवृद्धि ब्याज की दर से निवेश की जाती है। ब्याज दो अलग-अलग तरह से देय है - दिए गए धन को वार्षिक रूप से चक्रवृद्धि किया जा रहा है और अर्ध-वार्षिक रूप से चक्रवृद्धि किया जा रहा है। दो अलग-अलग मामलों में अर्जित चक्रवृद्धि ब्याज के बीच क्या अंतर है? (उत्तर को निकटतम Rs. में पूर्णांकित करें)

- Ans
- 1. Rs.651
 - 2. Rs.21,000
 - 3. Rs.551
 - 4. Rs.625

Question ID : 26433061460
Status : Not Answered
Chosen Option : --

Q.8 यदि बिजली के बिल में 10% की कटौती की जाती है, तो Rs.45 का भुगतान बाकी रहता है। बिल की राशि क्या है?

- Ans
- 1. Rs.50
 - 2. Rs.65
 - 3. Rs.45
 - 4. Rs.55

Question ID : 26433061198
Status : Answered
Chosen Option : 1

Q.9 किसी राशि का निवेश वार्षिक रूप से देय चक्रवृद्धि ब्याज (CI) पर किया गया है। क्रमागत 2 वर्षों में ब्याज क्रमशः Rs.225 और Rs.238.50 था। वार्षिक ब्याज दर ज्ञात कीजिए।

- Ans
- 1. 6%
 - 2. 5%
 - 3. 4%
 - 4. 8%

Question ID : 26433063881
Status : Answered
Chosen Option : 1

Q.10 दो संख्याओं का अनुपात 5 : 8 है और उनका लघुत्तम समापवर्त्य (LCM) 840 है। वो दो संख्याएं कौन-सी हैं?

- Ans
- 1. 105, 168
 - 2. 110, 180
 - 3. 98, 140
 - 4. 102, 179

Question ID : 26433061237
Status : Answered
Chosen Option : 1

Q.11 एक व्यापारी अपने सामान पर क्रय मूल्य से 30% अधिक मूल्य अंकित करता है। यदि वह ग्राहकों को 10% की छूट देता हो, तो वह लाभ के रूप में कितना प्रतिशत कमाता है?

- Ans 1. 17%
 2. 20%
 3. 22%
 4. 23%

Question ID : 26433063865
Status : Answered
Chosen Option : 1

Q.12 ₹20 प्रति kg के भाव के 16 kg गेहूं को 8 kg अन्य प्रकार के गेहूं के साथ मिलाकर एक मिश्रण प्राप्त किया जाता है, जिसकी कीमत ₹25 प्रति kg है। मंहगे गेहूं की कीमत (प्रति kg) ज्ञात करें।

- Ans 1. ₹35
 2. ₹32
 3. ₹30
 4. ₹34

Question ID : 26433063377
Status : Answered
Chosen Option : 1

Q.13 315 m लंबी एक ट्रेन 24 km/h की चाल से चल रही है। यह विपरीत दिशा से 3 km/h की चाल से आ रहे व्यक्ति को _____ में पार करेगी।

- Ans 1. 40 sec
 2. 36 sec
 3. 42 sec
 4. 38 sec

Question ID : 26433063953
Status : Answered
Chosen Option : 3

Q.14 एक संख्या 167 का वर्ग है। जब संख्या के अंकों को अवरोही क्रम में पुनर्व्यवस्थित किया जाता है, तो बनने वाली नई संख्या इनमें से किस संख्या से विभाज्य होगी?

- Ans 1. 17
 2. 11
 3. 5
 4. 13

Question ID : 26433064952
Status : Not Answered
Chosen Option : --

Q.15 एक कस्बे की जनसंख्या 2 वर्ष पहले 8000 थी। यदि जनसंख्या वृद्धि दर 30% प्रतिवर्ष है, तो 1 वर्ष बाद उस कस्बे की जनसंख्या कितनी होगी?

- Ans 1. 15678
 2. 17576
 3. 16754
 4. 17000

Question ID : 26433061270
Status : Answered
Chosen Option : 2

Q.16 सोनू और रवि एक साथ काम करते हुए एक काम को 3 घंटे में पूरा कर सकते हैं जबकि सोनू अकेले उसी काम को 4 घंटे में पूरा कर सकता है। रवि को अकेले उस काम को पूरा करने में कितने घंटे का समय लगेगा?

- Ans 1. 10
 2. 12
 3. 8
 4. 15

Question ID : 26433063424
Status : Answered
Chosen Option : 2

Q.17 एक मोबाइल को Rs.3,825 में बेचने पर एक व्यक्ति 15% की हानि उठाता है। 12% लाभ पाने के लिए उसे इसे कितने मूल्य पर बेचना चाहिए?

- Ans 1. Rs.4,950
 2. Rs.5,040
 3. Rs.4,860
 4. Rs.4,820

Question ID : 26433063932
Status : Answered
Chosen Option : 2

Q.18 0.9 और 0.3 के लिए तृतीयानुपाती _____ है।

- Ans 1. 0.1
 2. 0.3
 3. 0.9
 4. 0.01

Question ID : 26433064023
Status : Answered
Chosen Option : 1

Q.19 एक चोर 3:30 A.M. पर एक कार चुराता है और इसे 64 km/h की चाल से चलाता है। चोर का 4:30 A.M. पर पता चलता है और मालिक 80 km/h की चाल से दूसरी कार से पीछा करना शुरू करता है। वह चोर को कब पकड़ लेगा?

- Ans
- 1. 8:30 PM
 - 2. 7:30 PM
 - 3. 7:30 AM
 - 4. 8:30 AM

Question ID : 26433063490
Status : Answered
Chosen Option : 4

Q.20 एबीसी लिमिटेड देश भर में लैपटॉप बेच रही है। प्रबंधक ने कहा कि कंपनी ने एक वर्ष में 6608 लैपटॉप की बिक्री पर 1008 लैपटॉप के बिक्री मूल्य का लाभ कमाया। कंपनी ने कितना प्रतिशत लाभ अर्जित किया है?

- Ans
- 1. 16%
 - 2. 15%
 - 3. 20%
 - 4. 18%

Question ID : 26433063315
Status : Answered
Chosen Option : 4

Q.21 एक महिला का व्यय और बचत का अनुपात 2 : 1 है। यदि उसकी आय और व्यय में क्रमशः 17% और 13% की वृद्धि होती है, तो उसकी बचत में प्रतिशत वृद्धि की गणना करें।

- Ans
- 1. 25%
 - 2. 30%
 - 3. 35%
 - 4. 38%

Question ID : 26433063387
Status : Answered
Chosen Option : 1

Q.22 एक दुकानदार ने Rs.36/kg और Rs.24/kg मूल्य वाले चावल की दो किस्मों को क्रमशः 1: 2 के अनुपात में मिश्रित किया। उसने 25% लाभ अर्जित करने के लिए मिश्रण को Rs.2,100 में बेच दिया। उस मिश्रण में Rs.24/kg मूल्य वाले चावल की मात्रा ज्ञात कीजिए।

- Ans
- 1. 38 kg
 - 2. 37 kg
 - 3. 39 kg
 - 4. 40 kg

Question ID : 26433063918
Status : Not Answered
Chosen Option : --

Q.23 एक कर्मचारी अपनी आय का 75% व्यय करता है। उसकी आय में 25% की वृद्धि होती है, जबकि उसके व्यय में 10% की वृद्धि होती है। उसकी बचत में वृद्धि का प्रतिशत ज्ञात कीजिए।

- Ans
- 1. 70%
 - 2. 72%
 - 3. 68%
 - 4. 65%

Question ID : 26433063923
Status : Answered
Chosen Option : 1

Q.24 एक गोलाकार बर्तन का पृष्ठीय क्षेत्रफल क्या है जिसकी त्रिज्या 4.2 cm है? ($\pi = \frac{22}{7}$ लें)

- Ans
- 1. 211.76 cm²
 - 2. 221.16 cm²
 - 3. 222.26 cm²
 - 4. 221.76 cm²

Question ID : 26433058248
Status : Answered
Chosen Option : 4

Q.25 रमेश ने एक थोक व्यापारी से Rs.600 प्रत्येक की दर से घड़ियाँ खरीदीं। उसने कीमत में 25% की वृद्धि की और फिर प्रत्येक घड़ी पर 12% की छूट दी। उसका लाभ प्रतिशत क्या था?

- Ans
- 1. 11%
 - 2. 10%
 - 3. 11.5%
 - 4. 10.5%

Question ID : 26433064977
Status : Answered
Chosen Option : 2

Section : General Awareness

Q.1 निम्नलिखित में से किसे भारत के 'मिसाइल मैन' के रूप में जाना जाता है?

- Ans
- 1. ए.पी.जे. अब्दुल कलाम
 - 2. होमी भाभा
 - 3. एम.एफ. हुसैन
 - 4. राजीव गांधी

Question ID : 26433076769
Status : Answered
Chosen Option : 1

Q.2 1 अप्रैल 2022 से प्रभावी भारत सरकार ने 'हित-एंड-रन' मामलों के पीड़ितों के परिवार के सदस्यों के लिए तत्काल मुआवजे को Rs.25,000 से बढ़ाकर _____ कर दिया है।

- Ans 1. Rs.2,00,000
 2. Rs.1,00,000
 3. Rs.50,000
 4. Rs.1,50,000

Question ID : 26433054418
Status : Answered
Chosen Option : 1

Q.3 'फुलैच' उत्सव भारत के निम्नलिखित में से किस राज्य में मनाया जाता है ?

- Ans 1. हिमाचल प्रदेश
 2. मेघालय
 3. केरल
 4. गुजरात

Question ID : 26433054153
Status : Answered
Chosen Option : 1

Q.4 ऐनी फ्रैंक द्वारा लिखित _____ शीर्षक वाली आत्मकथा द्वितीय विश्व युद्ध के दौरान एक तेरह वर्षीय यहूदी लड़की के अनुभवों का वर्णन करती है।

- Ans 1. आई नो व्हाई द कैप्च बर्ड सिंग्स
 2. टू लव एंड ए लिटल मैलिस
 3. माय कंट्री माय लाइफ
 4. द डायरी ऑफ ए यंग गर्ल

Question ID : 26433054237
Status : Answered
Chosen Option : 4

Q.5 राज्य के नीति निर्देशक सिद्धांत भारतीय संविधान के अनुच्छेद 36 से _____ में उल्लिखित कुछ विचार हैं।

- Ans 1. 51
 2. 47
 3. 57
 4. 53

Question ID : 26433054518
Status : Answered
Chosen Option : 1

Q.6 निम्नलिखित में से इन्सुलेटर (कुचालकों) के समूह की पहचान करें?

- Ans
- 1. प्लास्टिक, तांबा और रबड़
 - 2. लोहा, लकड़ी और रबड़
 - 3. प्लास्टिक, लकड़ी और रबड़
 - 4. स्टील, तांबा और रबड़

Question ID : 26433053975
Status : Answered
Chosen Option : 3

Q.7 सुरेंद्रनाथ बनर्जी और आनंद मोहन बोस ने 1876 में निम्नलिखित में से किस संगठन की स्थापना की थी?

- Ans
- 1. पूना सार्वजनिक सभा
 - 2. द इंडियन एसोसिएशन
 - 3. ब्रिटिश इंडियन एसोसिएशन
 - 4. बॉम्बे प्रेसीडेंसी एसोसिएशन

Question ID : 26433071413
Status : Answered
Chosen Option : 1

Q.8 फरवरी 2022 में विश्वविद्यालय अनुदान आयोग (UGC) के अध्यक्ष के रूप में किसे नियुक्त किया गया था?

- Ans
- 1. डी.पी. सिंह
 - 2. बीरेन सिन्हा
 - 3. राकेश अस्थाना
 - 4. एम. जगदीश कुमार

Question ID : 26433069802
Status : Answered
Chosen Option : 4

Q.9 ओणम भारत का एक प्रमुख त्योहार है जो मुख्य रूप से निम्नलिखित में से किस राज्य में मनाया जाता है?

- Ans
- 1. असम
 - 2. केरल
 - 3. पंजाब
 - 4. बिहार

Question ID : 26433054146
Status : Answered
Chosen Option : 2

Q.10 एक स्तूप में अनुष्ठानिक प्रवेश द्वार को _____ नाम से भी जाना जाता है।

- Ans 1. तोरण
 2. वेदिका
 3. मेढी
 4. छत्र

Question ID : 26433054349
Status : Answered
Chosen Option : 3

Q.11 पहले पैरालंपिक गेम्स _____ द्वारा आयोजित किए गए थे।

- Ans 1. इटली
 2. यूएस
 3. इंग्लैंड
 4. ऑस्ट्रेलिया

Question ID : 26433054671
Status : Answered
Chosen Option : 2

Q.12 19वें राष्ट्रमंडल खेलों का आयोजन _____ द्वारा किया गया था।

- Ans 1. आस्ट्रेलिया
 2. भारत
 3. बहामास
 4. इंग्लैंड

Question ID : 26433054670
Status : Answered
Chosen Option : 4

Q.13 _____, मध्य प्रदेश में है।

- Ans 1. भाजा गुफाएं
 2. कान्हेरी गुफाएं
 3. बाघ गुफाएं
 4. अजंता गुफाएं

Question ID : 26433054306
Status : Answered
Chosen Option : 2

Q.14 जनवरी 2022 में, भारत के सर्वोच्च न्यायालय ने _____ राज्य से संबंधित उन 12 विधायकों (MLAs) के एक वर्ष के निलंबन को रद्द कर दिया था, जिन्हें 'अमर्यादित आचरण' के लिए निलंबित किया गया था।

- Ans
- 1. केरल
 - 2. पंजाब
 - 3. महाराष्ट्र
 - 4. बिहार

Question ID : 26433069796
Status : Answered
Chosen Option : 1

Q.15 अचार के लिए प्राकृतिक परिरक्षक के रूप में किस रसोई सामग्री का उपयोग किया जाता है जो पानी को आकर्षित करके और झिल्ली के पार पहुंचाकर परासरण को ट्रिगर करता है?

- Ans
- 1. तेल
 - 2. सिरका
 - 3. रसोई नमक
 - 4. चीनी

Question ID : 26433054118
Status : Answered
Chosen Option : 2

Q.16 निम्नलिखित में से कौन सा कारक भारत में रेलवे नेटवर्क के वितरण पैटर्न को प्रभावित नहीं करता है?

- Ans
- 1. आर्थिक
 - 2. भाषाई
 - 3. भूआकृतिक
 - 4. प्रशासनिक

Question ID : 26433065384
Status : Answered
Chosen Option : 1

Q.17 निम्नलिखित में से कौन अपने पिता बिंबिसार को मारने के बाद मगध का राजा बना?

- Ans
- 1. मुंडा
 - 2. अनिरुद्ध
 - 3. उदयिन
 - 4. अजातशत्रु

Question ID : 26433065496
Status : Answered
Chosen Option : 4

Q.18 भारत में बेरोजगारी को मापने के लिए निम्नलिखित में से कौन सी विधि का उपयोग नहीं किया जाता है?

- Ans
- 1. सामान्य अवस्था दृष्टिकोण
 - 2. साप्ताहिक अवस्था दृष्टिकोण
 - 3. दैनिक अवस्था दृष्टिकोण
 - 4. असामान्य अवस्था दृष्टिकोण

Question ID : 26433065412
Status : Answered
Chosen Option : 4

Q.19 प्रसिद्ध संगीतकार निखिल बनर्जी और विलायत खान किस वाद्य-यंत्र से संबंधित हैं?

- Ans
- 1. शहनाई
 - 2. सरोद
 - 3. सितार
 - 4. तबला

Question ID : 26433054393
Status : Answered
Chosen Option : 1

Q.20 पृथ्वी के चट्टानी बाहरी भाग को क्या कहा जाता है?

- Ans
- 1. बाह्य क्रोड
 - 2. अंतःक्रोड
 - 3. स्थलमंडल
 - 4. मेटल

Question ID : 26433054057
Status : Answered
Chosen Option : 4

Q.21 भारत की 2011 की जनगणना के अनुसार, भारत में पुरुष और महिला साक्षरता दर के बीच अंतर (% में) कितना है?

- Ans
- 1. 18.68%
 - 2. 15.23%
 - 3. 16.68%
 - 4. 17.75%

Question ID : 26433067155
Status : Answered
Chosen Option : 4

Q.22 बिहार राज्य का कुल क्षेत्रफल कितना है?

- Ans 1. 94,163 km²
 2. 89,631 km²
 3. 98,631 km²
 4. 82,163 km²

Question ID : 26433076764
Status : Answered
Chosen Option : 1

Q.23 सत्यशोधक समाज (सत्य की खोज करने वाला समाज) की स्थापना किसने की?

- Ans 1. राम मोहन राय
 2. केशव चंद्र सेन
 3. देबेन्द्रनाथ टैगोर
 4. ज्योतिराव फुले

Question ID : 26433054643
Status : Answered
Chosen Option : 2

Q.24 सूरी वंश के निम्नलिखित किस शासक ने मुगल सम्राट हुमायूँ को हराया था?

- Ans 1. सिकंदर शाह सूरी
 2. शेर शाह सूरी
 3. इस्लाम शाह सूरी
 4. फिरोज शाह सूरी

Question ID : 26433065533
Status : Answered
Chosen Option : 2

Q.25 भारतीय नर्तक पंडित बिरजू महाराज निम्नलिखित में से किस कथक घराने के प्रतिपादक थे?

- Ans 1. बनारस
 2. जयपुर
 3. रायगढ़
 4. लखनऊ

Question ID : 26433054134
Status : Answered
Chosen Option : 4